

BÀI 8: Sơ đồ hình cây

1. Các em hãy quan sát hình ảnh về giá để đồ chơi của bạn Quân sau đây. Các em hãy vẽ sơ đồ hình cây dạng ngang và sơ đồ hình cây dạng dọc để mô tả cách sắp xếp giá đồ chơi của bạn Quân.



Sơ đồ hình cây dạng ngang

.....

.....

.....

.....

.....

.....

.....

.....

Sơ đồ hình cây dạng dọc

.....

.....

.....

.....

.....

.....

.....

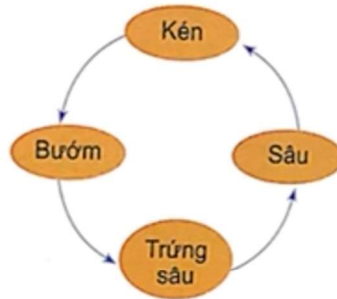
.....

BÀI 8: Sơ đồ hình cây

2. Sơ đồ nào sau đây không phải là sơ đồ hình cây? Khoanh tròn vào hình em cho là đúng.



Hình A



Hình B



Hình C

3. Em hãy biểu diễn cách sắp xếp giá sách thành sơ đồ hình cây theo thông tin gợi ý trong bảng sau:

Giá sách của em				
Truyện, thơ			Sách vở	
Thơ học trò	Truyện cổ tích	Truyện tranh	Sách giáo khoa	Vở viết

.....

.....

.....

.....

.....

.....

.....

.....

.....

.....


.....

.....

.....

BÀI 8: Sơ đồ hình cây

4. Bạn Minh có tủ quần áo như hình dưới đây. Em hãy giúp Minh mô tả cách sắp xếp quần áo trong tủ bằng sơ đồ hình cây.



.....

.....

.....

.....

.....

.....

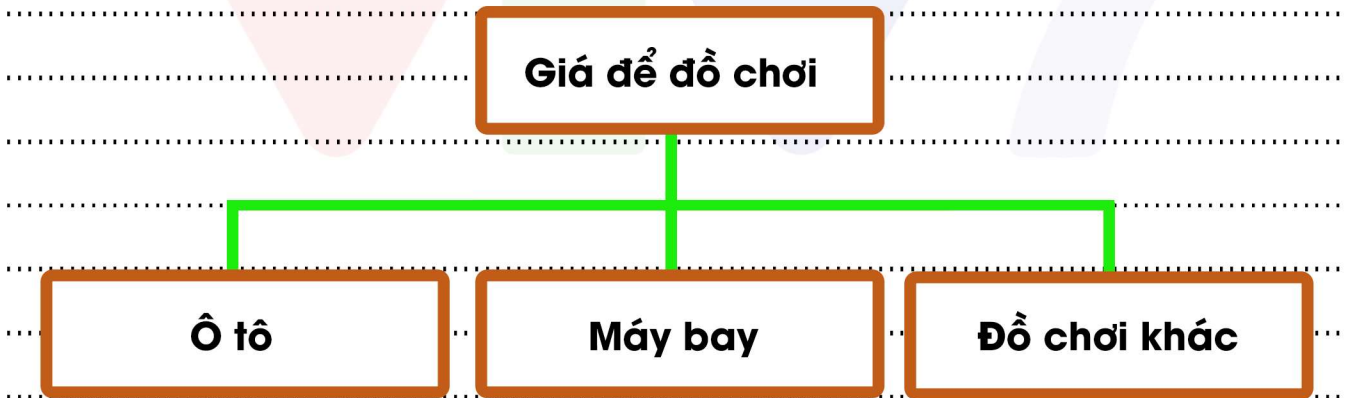
.....

BÀI 8: Sơ đồ hình cây

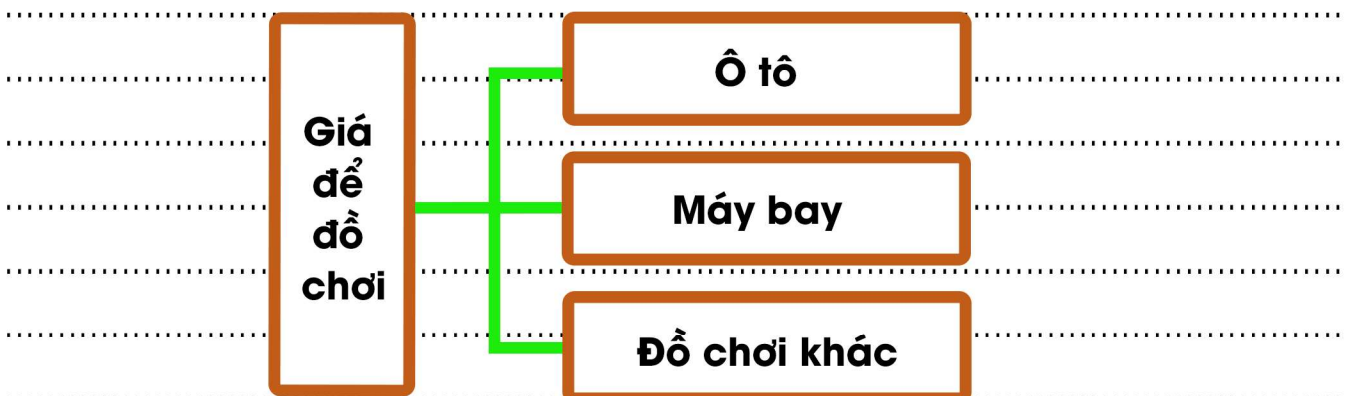
1. Các em hãy quan sát hình ảnh về giá để đồ chơi của bạn Quân sau đây. Các em hãy vẽ sơ đồ hình cây dạng ngang và sơ đồ hình cây dạng dọc để mô tả cách sắp xếp giá đồ chơi của bạn Quân.



Sơ đồ hình cây dạng ngang

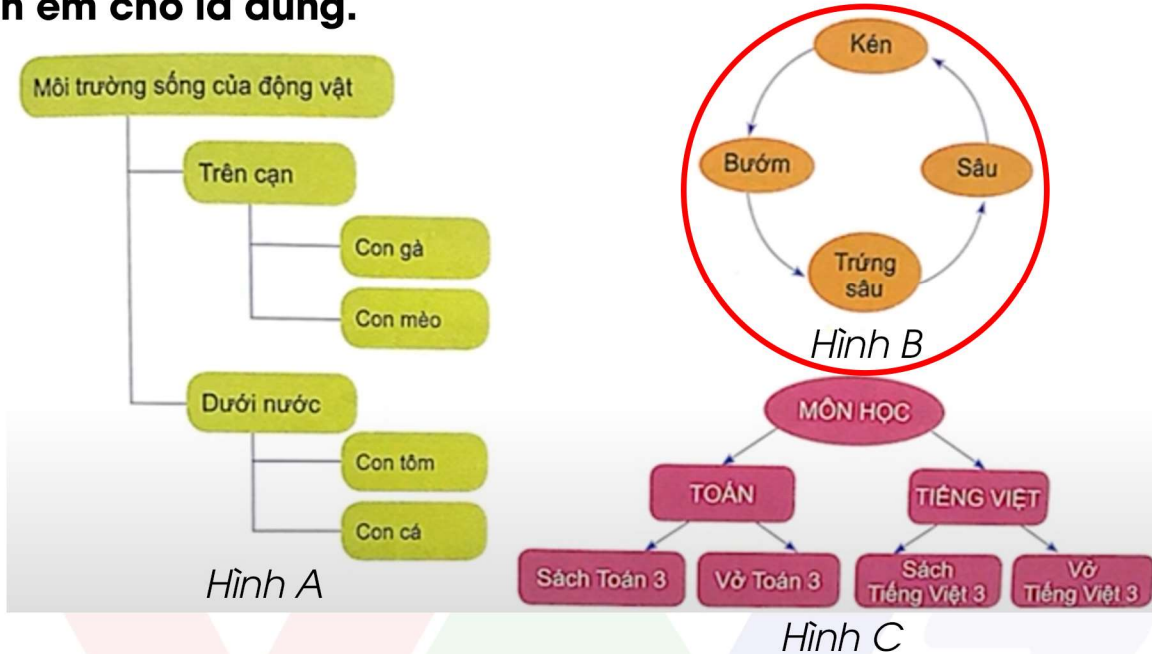


Sơ đồ hình cây dạng dọc



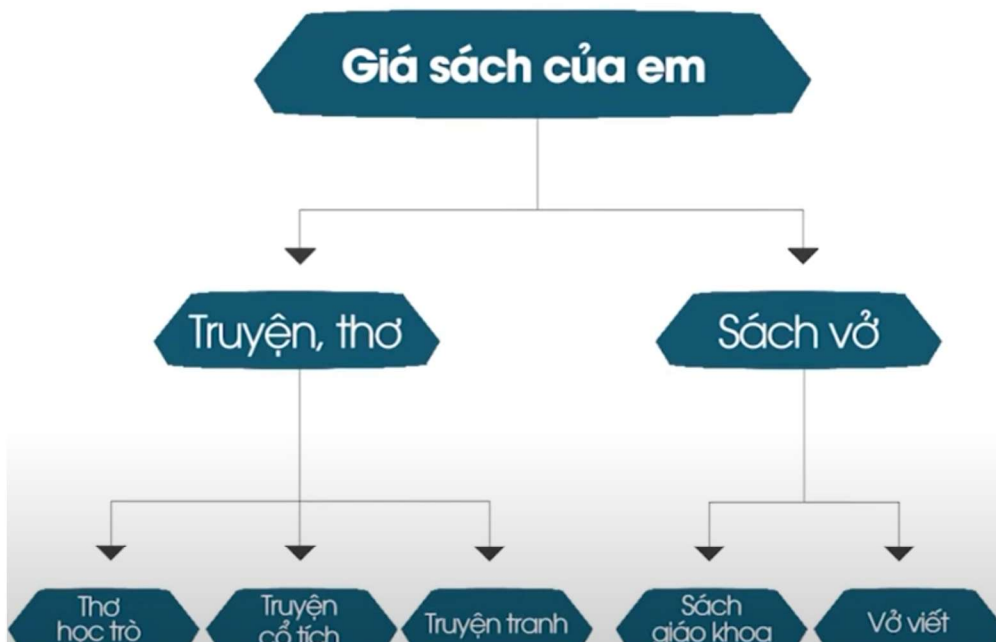
BÀI 8: Sơ đồ hình cây

2. Sơ đồ nào sau đây không phải là sơ đồ hình cây? Khoanh tròn vào hình em cho là đúng.



3. Em hãy biểu diễn cách sắp xếp giá sách thành sơ đồ hình cây theo thông tin gợi ý trong bảng sau:

Giá sách của em				
Truyện, thơ			Sách vở	
Thơ học trò	Truyện cổ tích	Truyện tranh	Sách giáo khoa	Vở viết



BÀI 8: Sơ đồ hình cây

4. Bạn Minh có tủ quần áo như hình dưới đây. Em hãy giúp Minh mô tả cách sắp xếp quần áo trong tủ bằng sơ đồ hình cây.

