

BÀI 9: Thao tác với thư mục

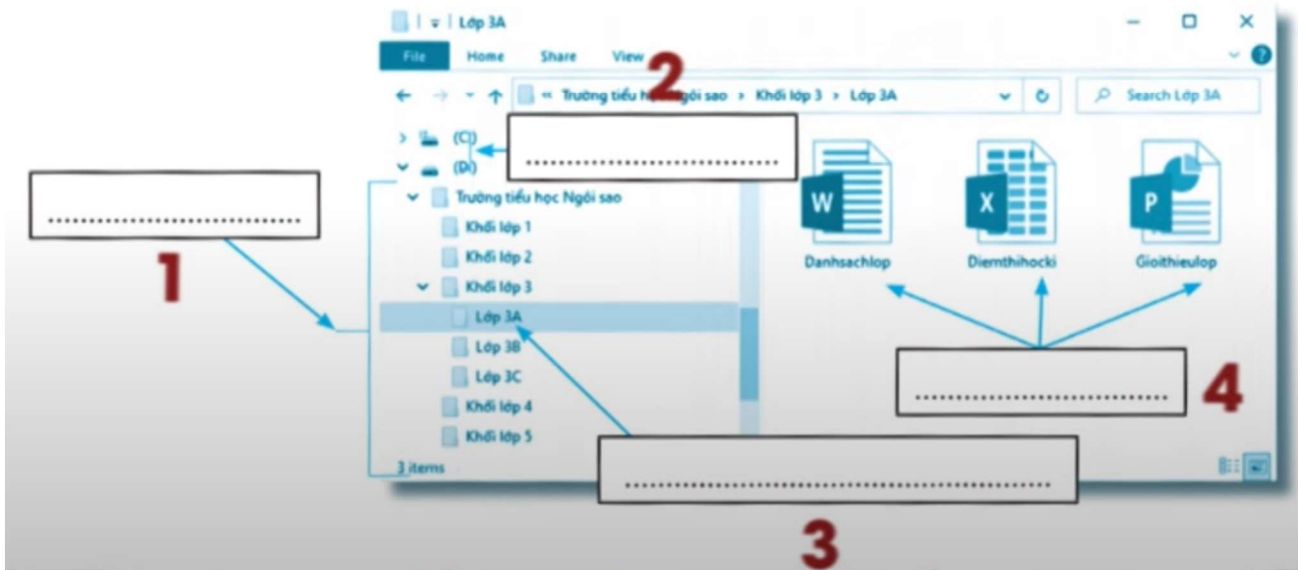
1. Các em hãy chọn trong các cụm từ dưới đây và điền vào chỗ chấm ở hình sau cho phù hợp:

A. Các tệp

B. Các ổ đĩa

C. Các thư mục

D. Thư mục đang được mở.



2. Các em hãy quan sát hình trong bài số 1 và cho biết:

A. Tên các tệp trong thư mục Lớp 3A?

B. Thư mục mẹ của thư mục Lớp 3A là thư mục nào?

C. Thư mục mẹ của thư mục Khối lớp 3 là thư mục nào?

.....

.....

.....

.....

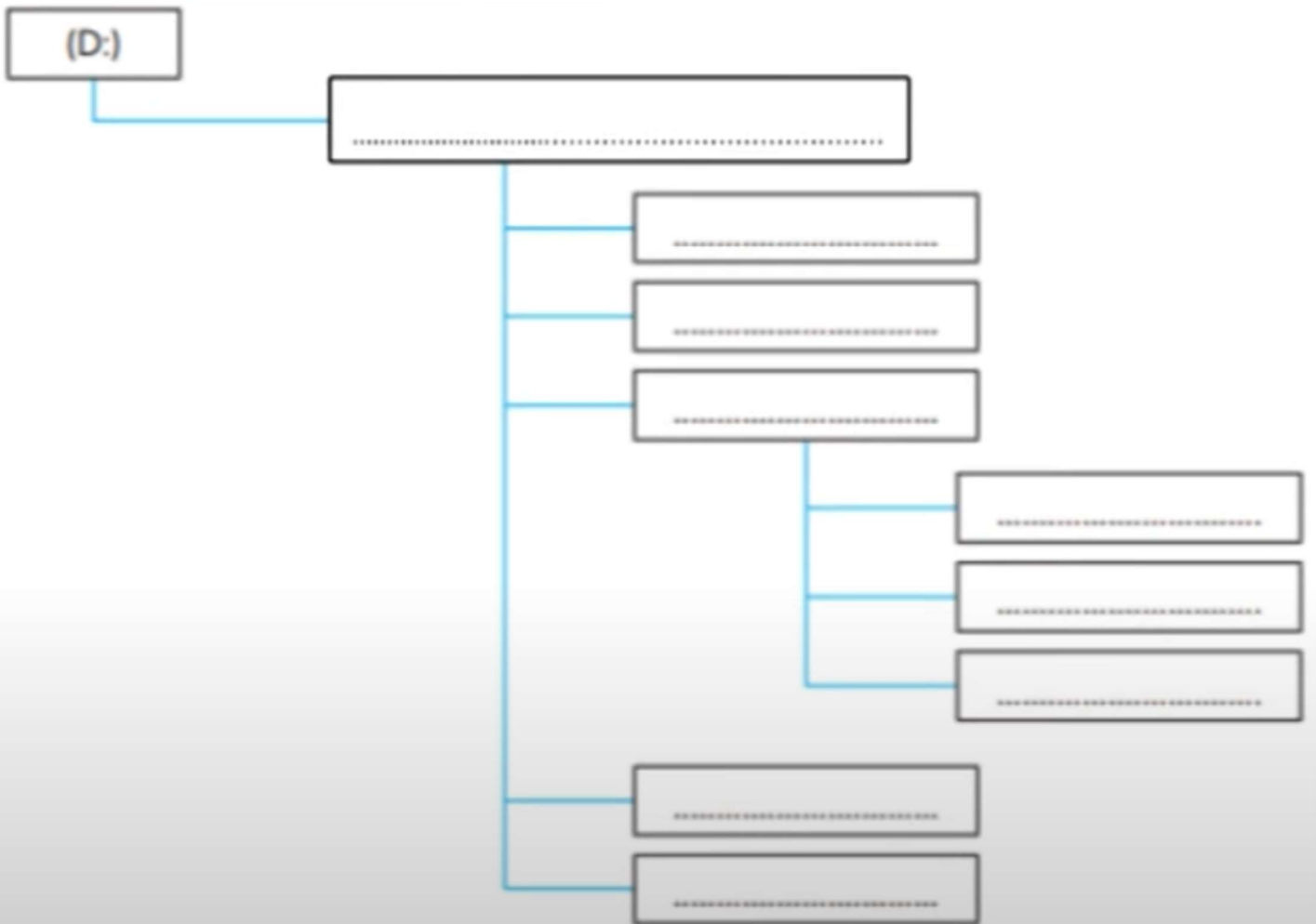
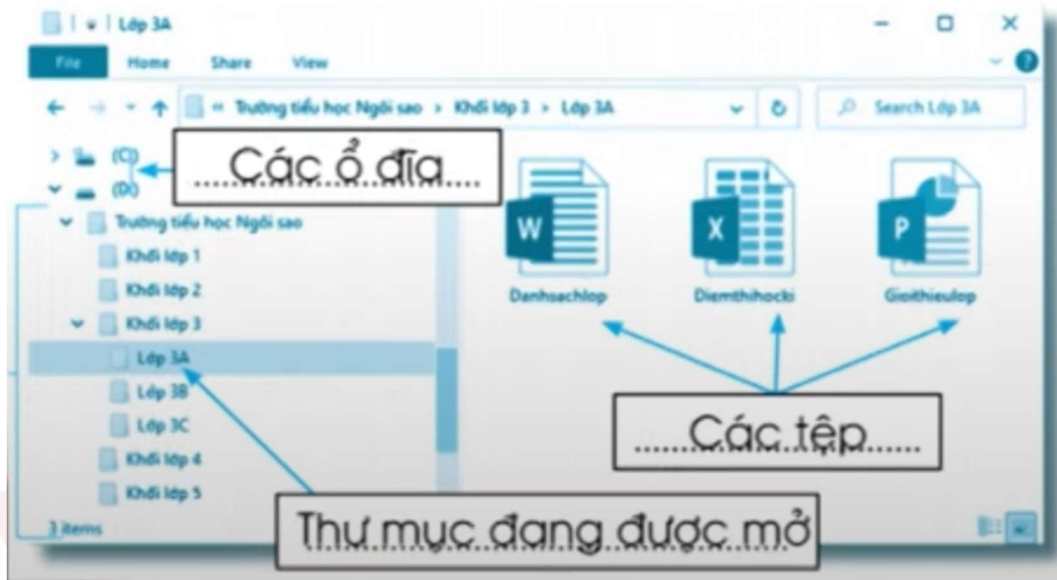
.....

.....

.....

BÀI 9: Thao tác với thư mục

3. Em hãy điền tên thư mục, tên tệp vào chỗ chấm ở sơ đồ hình cây sau đây để mô tả cây thư mục có nội dung trong hình sau:



BÀI 9: Thao tác với thư mục

4. Các em hãy sắp xếp những thao tác dưới đây theo thứ tự đúng để mở đến thư mục Lớp 3A trong cây thư mục ở bài số 3:

- A. Mở thư mục Trường tiểu học Ngôi sao
 - B. Mở ổ đĩa (D:)
 - C. Mở thư mục Lớp 3A.
 - D. Mở thư mục Khối lớp 3.
-
-

5. Các em hãy lựa chọn một số thao tác trong các thao tác dưới đây để:

A. Nháy chọn thư mục	E. Chọn nút lệnh Rename
B. Chọn thẻ Home	G. Gõ tên mới
C. Chọn nút lệnh New folder	H. Gõ tên thư mục
D. Gõ phím Enter	I. Chọn nút lệnh Delete

a. Sắp xếp theo thứ tự đúng để thực hiện tạo thư mục:

.....

.....

.....

.....

b. Sắp xếp theo thứ tự đúng để thực hiện đổi tên thư mục:

.....

.....

.....

.....

BÀI 9: Thao tác với thư mục

c. Sắp xếp theo thứ tự đúng để thực hiện xoá thư mục:

.....

.....

.....

.....



BÀI 9: Thao tác với thư mục

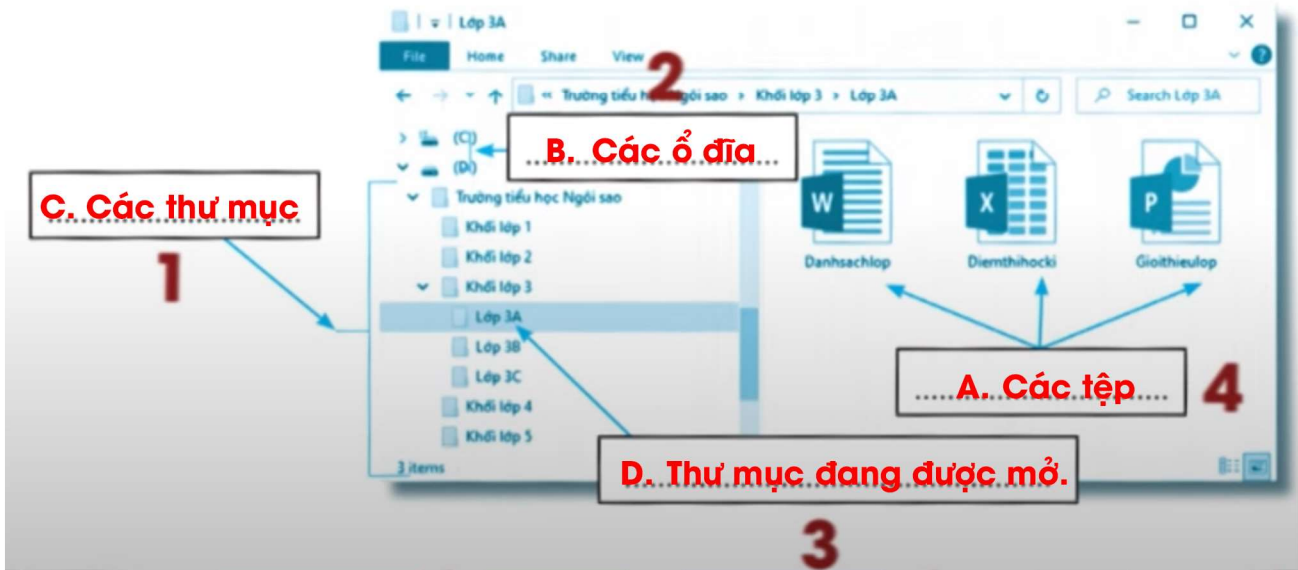
1. Các em hãy chọn trong các cụm từ dưới đây và điền vào chỗ chấm ở hình sau cho phù hợp:

A. Các tệp

B. Các ổ đĩa

C. Các thư mục

D. Thư mục đang được mở.



2. Các em hãy quan sát hình trong bài số 1 và cho biết:

A. Tên các tệp trong thư mục Lớp 3A?

B. Thư mục mẹ của thư mục Lớp 3A là thư mục nào?

C. Thư mục mẹ của thư mục Khối lớp 3 là thư mục nào?

A. Tên các tệp trong thư mục Lớp 3A là:

Danhsachlop, Diemthihecki, Gioithieulop

B. Thư mục mẹ của thư mục Lớp 3A là thư mục:

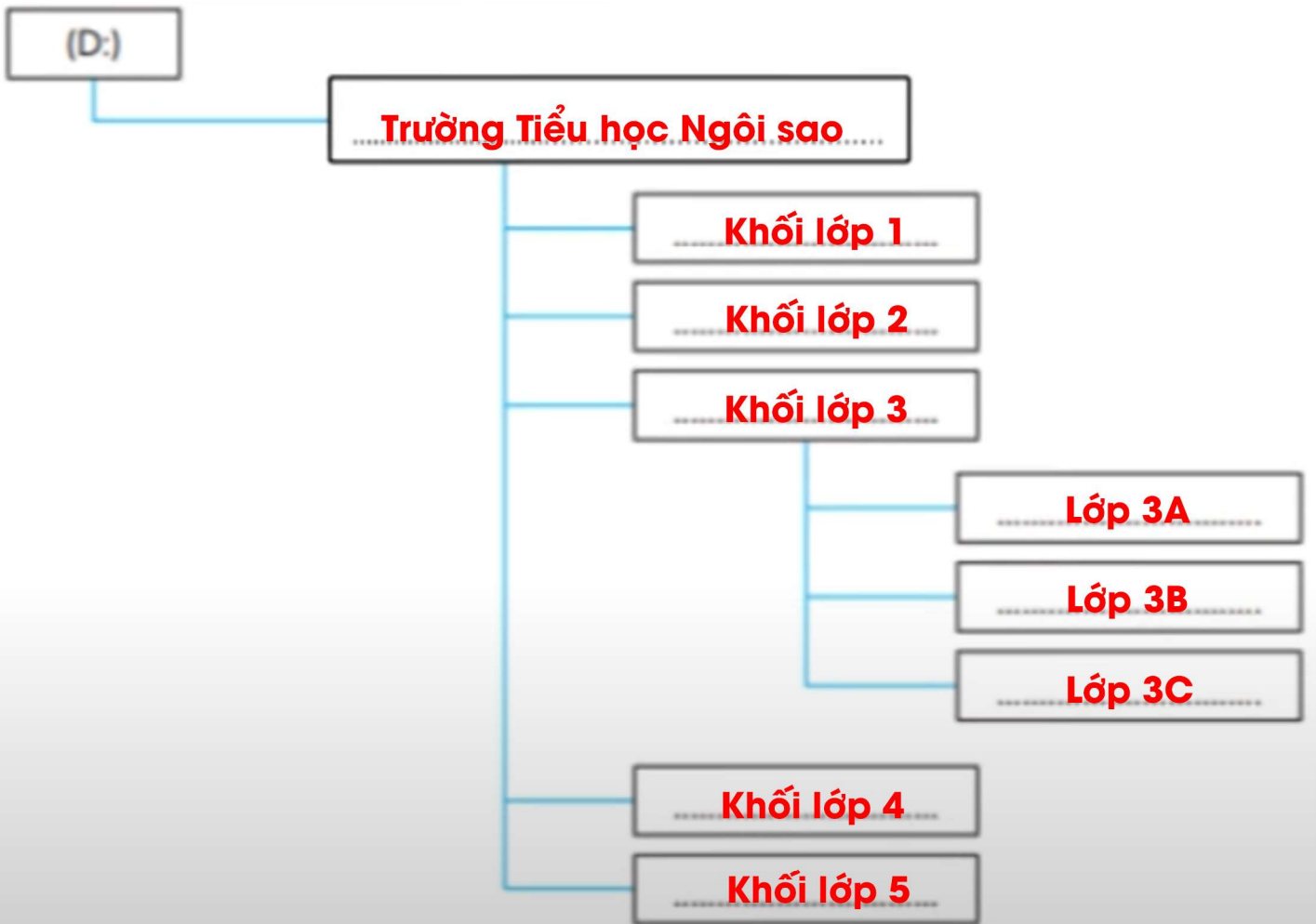
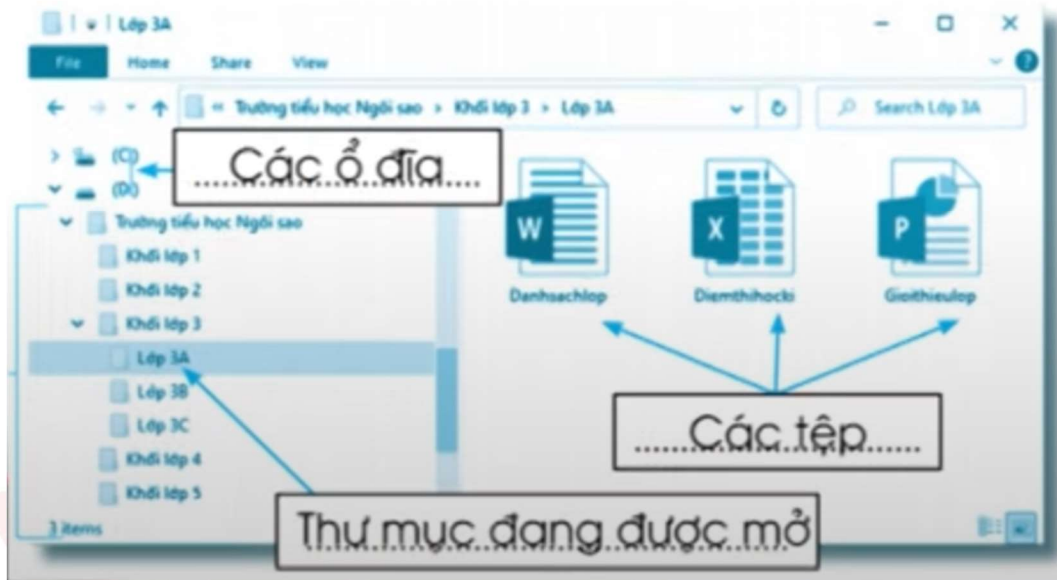
Khối lớp 3

C. Thư mục mẹ của thư mục Khối lớp 3 là thư mục:

Trường tiểu học Ngôi sao

BÀI 9: Thao tác với thư mục

3. Em hãy điền tên thư mục, tên tệp vào chỗ chấm ở sơ đồ hình cây sau đây để mô tả cây thư mục có nội dung trong hình sau:



BÀI 9: Thao tác với thư mục

4. Các em hãy sắp xếp những thao tác dưới đây theo thứ tự đúng để mở đến thư mục Lớp 3A trong cây thư mục ở bài số 3:

- A. Mở thư mục Trường tiểu học Ngôi sao
- B. Mở ổ đĩa (D:)
- C. Mở thư mục Lớp 3A.
- D. Mở thư mục Khối lớp 3.

Thứ tự đúng là: B - A - D - C.

5. Các em hãy lựa chọn một số thao tác trong các thao tác dưới đây để:

A. Nháy chọn thư mục	E. Chọn nút lệnh Rename
B. Chọn thẻ Home	G. Gõ tên mới
C. Chọn nút lệnh New folder	H. Gõ tên thư mục
D. Gõ phím Enter	I. Chọn nút lệnh Delete

a. Sắp xếp theo thứ tự đúng để thực hiện tạo thư mục:

B. Chọn thẻ Home - G. Gõ tên mới - H. Gõ tên thư mục - D. Gõ phím Enter

b. Sắp xếp theo thứ tự đúng để thực hiện đổi tên thư mục:

A. Nháy chọn thư mục - B. Chọn thẻ Home - C. Chọn nút lệnh Remove - G. Gõ tên mới - D. Gõ phím

BÀI 9: Thao tác với thư mục

c. Sắp xếp theo thứ tự đúng để thực hiện xoá thư mục:

A. Nháy chọn thư mục - B. Chọn thẻ Home - I. Chọn nút lệnh Delete.

.....

.....

.....

