



# BÀI 24: Chục và đơn vị

## 1. Số?



Có ..... con cá

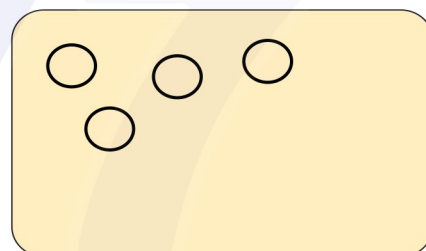
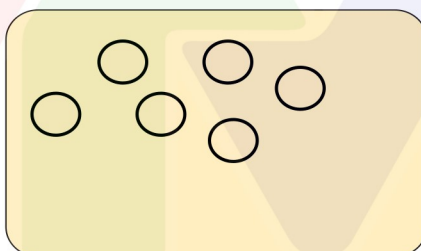
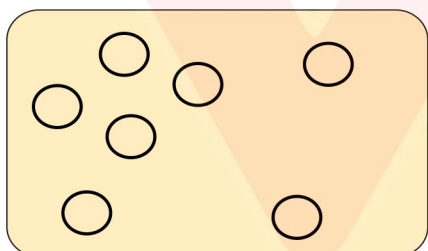
Có ..... chục con cá



Có ..... củ cà rốt

Có ..... chục củ cà rốt

## 2. Vẽ thêm cho đủ 1 chục chấm tròn:



## 3. a) Viết số (theo mẫu):

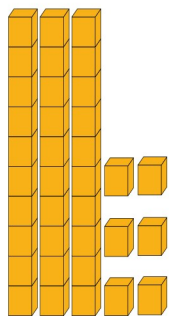
Mẫu:

23

Chục	Đơn vị
2	3

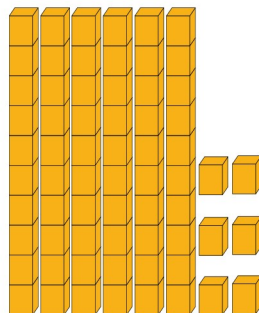
**Số 23 gồm 2 chục và 3 đơn vị**

# BÀI 24: Chục và đơn vị



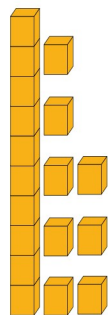
Chục	Đơn vị

Số ..... gồm ..... chục ..... đơn vị




Chục	Đơn vị

Số ..... gồm ..... chục ..... đơn vị



Chục	Đơn vị

Số ..... gồm ..... chục ..... đơn vị



Chục	Đơn vị

Số ..... gồm ..... chục ..... đơn vị

**b) Viết số thích hợp vào chỗ chấm:**

Số 17 gồm ..... chục và ..... đơn vị

Số 33 gồm ..... chục và ..... đơn vị



Số 82 gồm ..... chục và ..... đơn vị

Số 50 gồm mấy chục và mấy đơn vị ?

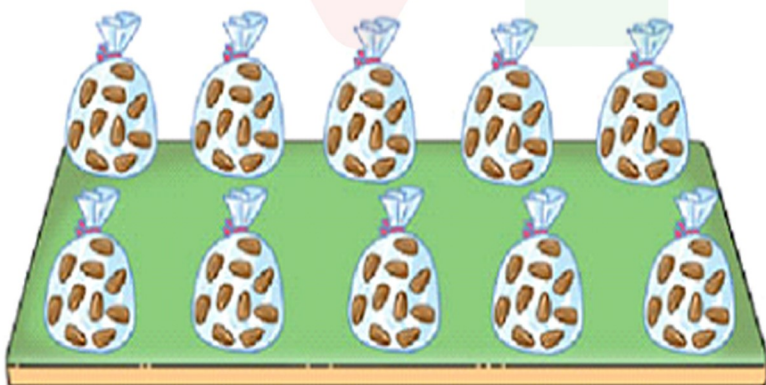
Trả lời: .....

# BÀI 24: Chục và đơn vị

4. a) Khoanh vào 2 chục quả táo    b) Khoanh vào 6 chục bông hoa:



5. Quan sát tranh, viết số thích hợp vào ô trống:



Có ..... chục hạt hạnh nhân

Có ..... hạt hạnh nhân




Có ..... chục hũ mật ong

Có ..... hũ mật ong


# BÀI 24: Chục và đơn vị

## 1. Số?



Có **10** con cá

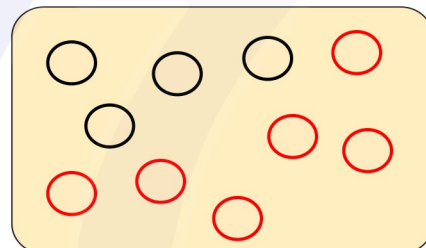
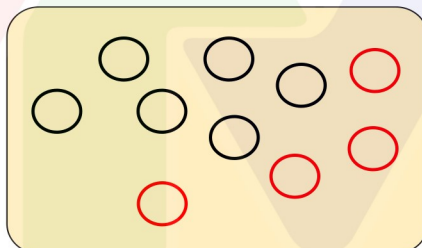
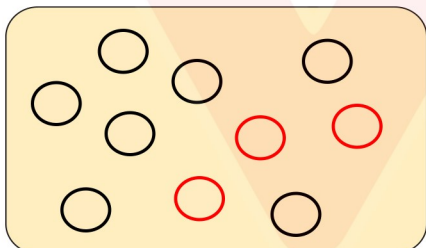
Có **1** chục con cá



Có **20** củ cà rốt

Có **2** chục củ cà rốt

## 2. Vẽ thêm cho đủ 1 chục chấm tròn:



## 3. a) Viết số (theo mẫu):

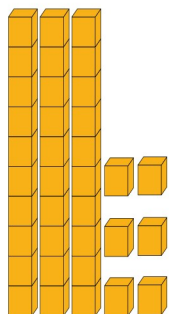
Mẫu:

23

Chục	Đơn vị
2	3

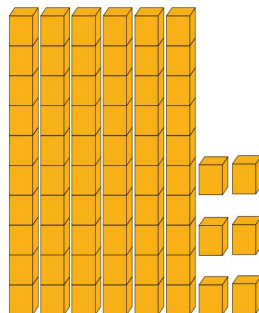
**Số 23 gồm 2 chục và 3 đơn vị**

# BÀI 24: Chục và đơn vị



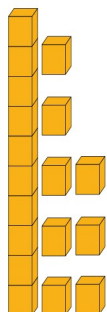
Chục	Đơn vị
3	6

**36** Số **36** gồm **3** chục **6** đơn vị




Chục	Đơn vị
6	6

**66** Số **66** gồm **6** chục **6** đơn vị



Chục	Đơn vị
1	8

**18** Số **18** gồm **1** chục **8** đơn vị



Chục	Đơn vị
6	0

**60** Số **60** gồm **6** chục **0** đơn vị

**b) Viết số thích hợp vào chỗ chấm:**

Số 17 gồm **1** chục và **7** đơn vị

Số 33 gồm **3** chục và **3** đơn vị



Số 82 gồm **8** chục và **2** đơn vị

Số 50 gồm mấy chục và mấy đơn vị ?

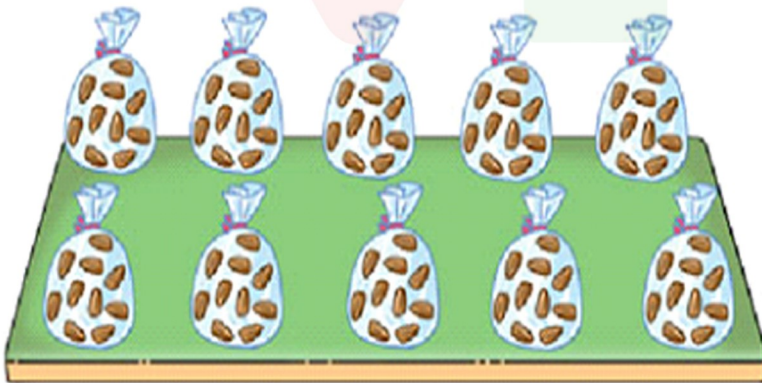
Trả lời: **Số 50 gồm 5 chục và 0 đơn vị**

# BÀI 24: Chục và đơn vị

4. a) Khoanh vào 2 chục quả táo    b) Khoanh vào 6 chục bông hoa:



5. Quan sát tranh, viết số thích hợp vào ô trống:



Có **10** chục hạt hạnh nhân

Có **100** hạt hạnh nhân



Có **4** chục hũ mật ong

Có **40** hũ mật ong