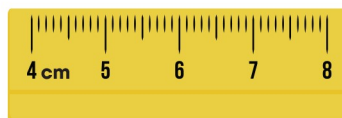


BÀI 27: Xăng-ti-mét. Thực hành đo Độ dài


1. Viết số đo độ dài thích hợp vào chỗ chấm:




Chiếc bút chì dài cm.



Chiếc gọt bút chì dài cm.



Chiếc bút mực dài cm.



Chiếc kẹp tóc dài cm.

2. Viết vào ô trống (theo mẫu):

6 cm	Sáu xăng ti mét
48 cm	
	Ba mươi tám xăng ti mét

5 cm	
23 cm	
	Sáu mươi xăng ti mét

3. Đo độ dài mỗi băng giấy sau bằng thước có vạch chia xăng-ti-mét rồi viết số đo vào chỗ chấm:



.....

BÀI 27: Xăng-ti-mét.

Thực hành ước lượng & Đo độ dài

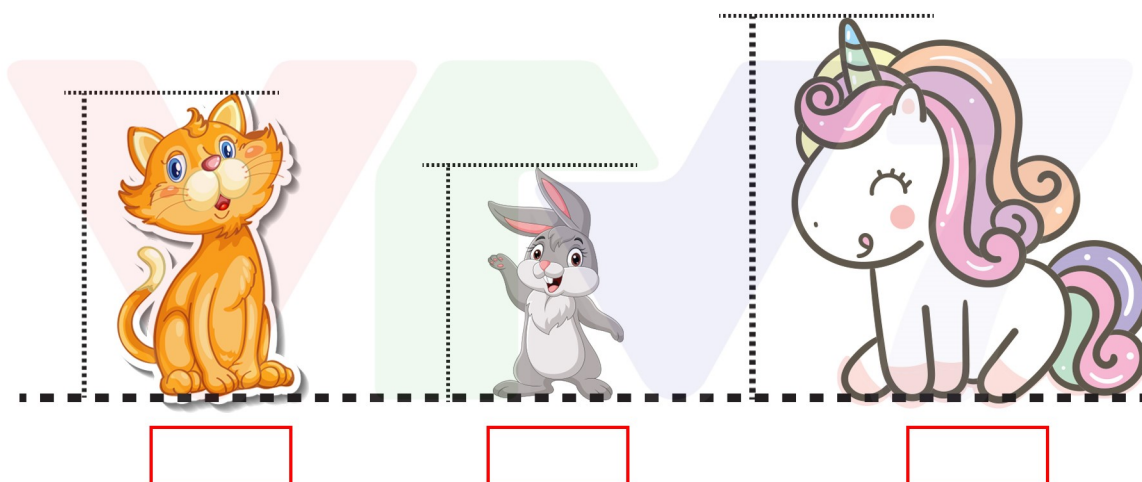


.....

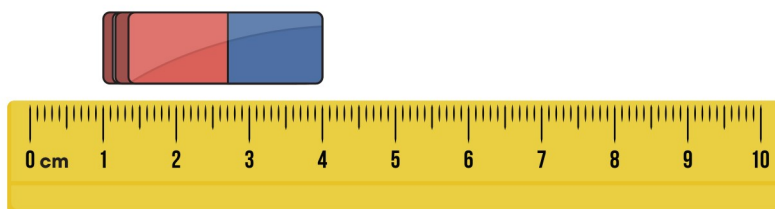


.....

4. Đo độ dài rồi viết số đo thích hợp vào ô trống:



5. Hà đo cục tẩy như hình vẽ dưới đây và nói : “cục tẩy dài 4 cm”. Theo em bạn Hà nói đúng không? Tại sao?



.....

.....

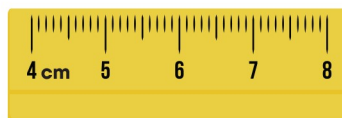
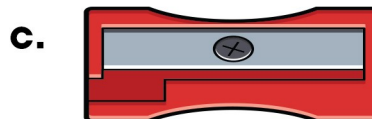
.....

BÀI 27: Xăng-ti-mét. Thực hành đo Độ dài


1. Viết số đo độ dài thích hợp vào chỗ chấm:




Chiếc bút chì dài ...7... cm.



Chiếc gọt bút chì dài ...4... cm.



Chiếc bút mực dài ...8... cm.



Chiếc kẹp tóc dài ...4... cm.

2. Viết vào ô trống (theo mẫu):

6 cm	Sáu xăng ti mét
48 cm	Bốn mươi tám xăng ti mét
36 cm	Ba mươi tám xăng ti mét

5 cm	Năm xăng ti mét
23 cm	Hai mươi ba xăng ti mét
60 cm	Sáu mươi xăng ti mét

3. Đo độ dài mỗi băng giấy sau bằng thước có vạch chia xăng-ti-mét rồi viết số đo vào chỗ chấm:




.....
15 cm

BÀI 27: Xăng-ti-mét.

Thực hành ước lượng & Đo độ dài



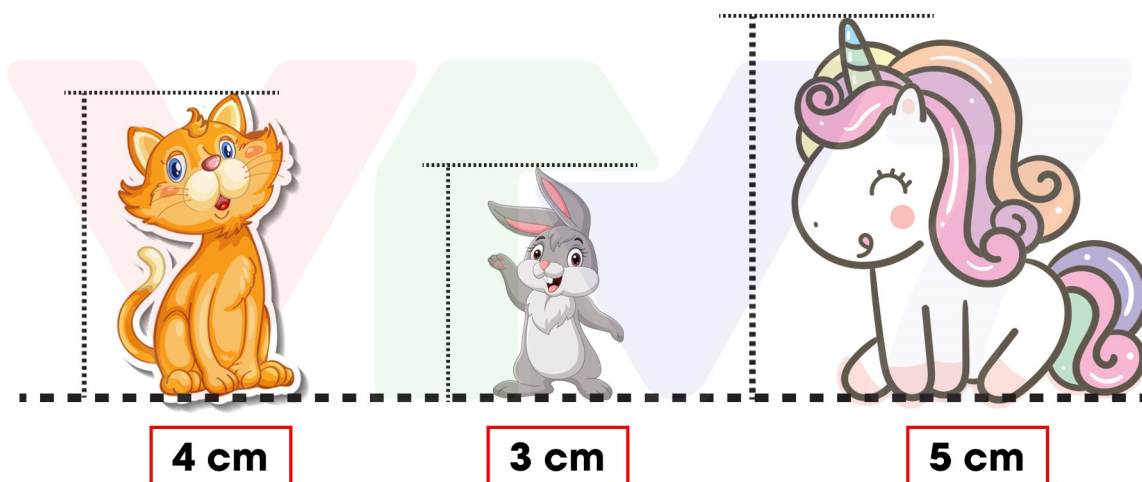
18 cm



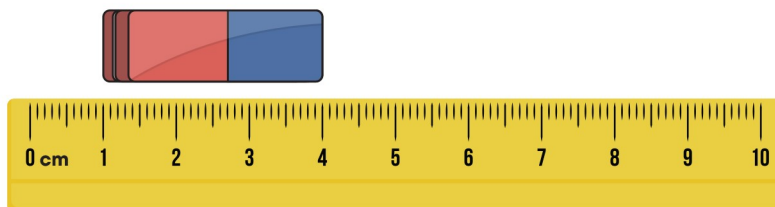
12 cm



4. Đo độ dài rồi viết số đo thích hợp vào ô trống:



5. Hà đo cục tẩy như hình vẽ dưới đây và nói : “cục tẩy dài 4 cm”. Theo em bạn Hà nói đúng không? Tại sao?



Bạn Hà nói như thế là sai vì cục tẩy dài 3 cm.

