

# BÀI 33: Phép cộng không nhớ các số trong phạm vi 100

1. Tính:

$$\begin{array}{r} 52 \\ + 24 \\ \hline \end{array}$$

.....

$$\begin{array}{r} 31 \\ + 48 \\ \hline \end{array}$$

.....

$$\begin{array}{r} 28 \\ + 50 \\ \hline \end{array}$$

.....

$$\begin{array}{r} 43 \\ + 5 \\ \hline \end{array}$$

.....

$$\begin{array}{r} 84 \\ + 3 \\ \hline \end{array}$$

.....

2. Đặt tính rồi tính:

Mẫu:

42 + 17

$$\begin{array}{r} 42 \\ + 17 \\ \hline 59 \end{array}$$

36 + 21

53 + 16

15 + 3

64 + 4

55 + 2

3. Tính nhẩm:

$30 + 20 = \dots\dots$

$35 + 1 = \dots\dots$

$80 + 2 = \dots\dots$

$40 + 8 = \dots\dots$

$63 + 10 = \dots\dots$

$87 + 2 = \dots\dots$

$42 + 3 = \dots\dots$

$63 + 20 = \dots\dots$

$1 + 92 = \dots\dots$

# BÀI 33: Phép cộng không nhớ các số trong phạm vi 100

4. Nối phép tính với kết quả thích hợp:

$33 + 4$

28

38

$22 + 7$

$34 + 5$

29

37

$20 + 8$

$32 + 6$

27

39

$21 + 6$

5. Ngày thứ nhất em đọc được 25 trang sách. Ngày thứ hai em đọc được 32 trang sách. Hỏi cả hai ngày em đọc được bao nhiêu trang sách?

Phép tính:

Trả lời: Cả hai ngày em đọc được ..... trang sách.

6. Anh Nam mua 50 chiếc bút bi, vì cửa hàng đang có chương trình khuyến mãi nên anh Nam được tặng thêm 5 chiếc bút bi nữa. Hỏi anh Nam có tất cả bao nhiêu chiếc bút bi?

Phép tính:

Trả lời: Anh Nam có tất cả ..... chiếc bút bi.

# BÀI 33: Phép cộng không nhớ các số trong phạm vi 100

1. Tính:

$$\begin{array}{r} 52 \\ + 24 \\ \hline 76 \\ \text{.....} \end{array}$$

$$\begin{array}{r} 31 \\ + 48 \\ \hline 79 \\ \text{.....} \end{array}$$

$$\begin{array}{r} 28 \\ + 50 \\ \hline 78 \\ \text{.....} \end{array}$$

$$\begin{array}{r} 43 \\ + 5 \\ \hline 48 \\ \text{.....} \end{array}$$

$$\begin{array}{r} 84 \\ + 3 \\ \hline 87 \\ \text{.....} \end{array}$$

2. Đặt tính rồi tính:

Mẫu:

3. Tính nhẩm:

$30 + 20 = \text{.....} \mathbf{50}$

$35 + 1 = \text{.....} \mathbf{36}$

$80 + 2 = \text{.....} \mathbf{82}$

$40 + 8 = \text{.....} \mathbf{48}$

$63 + 10 = \text{.....} \mathbf{73}$

$87 + 2 = \text{.....} \mathbf{89}$






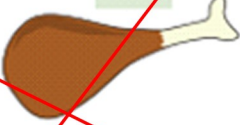
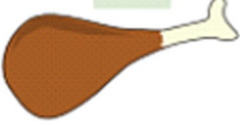





$42 + 3 = \text{.....} \mathbf{45}$

$63 + 20 = \text{.....} \mathbf{83}$

$1 + 92 = \text{.....} \mathbf{93}$

## BÀI 33: Phép cộng không nhớ các số trong phạm vi 100

4. Nối phép tính với kết quả thích hợp:

$33 + 4$ 	$28$ 	$38$ 	$22 + 7$ 
$34 + 5$ 	$29$ 	$37$ 	$20 + 8$ 
$32 + 6$ 	$27$ 	$39$ 	$21 + 6$ 

5. Ngày thứ nhất em đọc được 25 trang sách. Ngày thứ hai em đọc được 32 trang sách. Hỏi cả hai ngày em đọc được bao nhiêu trang sách?

Phép tính:  $25 + 32 = 57$

Trả lời: Cả hai ngày em đọc được **57** trang sách.

6. Anh Nam mua 50 chiếc bút bi, vì cửa hàng đang có chương trình khuyến mãi nên anh Nam được tặng thêm 5 chiếc bút bi nữa. Hỏi anh Nam có tất cả bao nhiêu chiếc bút bi?

Phép tính:  $40 + 20 = 60$

Trả lời: Anh Nam có tất cả **60** chiếc bút bi.