

# BÀI 14: Luyện tập về cộng trừ (có nhớ) trong phạm vi 20

## 1. Tính nhẩm:

$8 + 5 = \square$

$7 + 4 = \square$

$6 + 7 = \square$

$9 + 2 = \square$

$5 + 8 = \square$

$4 + 7 = \square$

$7 + 6 = \square$

$2 + 9 = \square$

$13 - 8 = \square$

$11 - 7 = \square$

$13 - 6 = \square$

$11 - 9 = \square$

$13 - 5 = \square$

$11 - 4 = \square$

$13 - 7 = \square$

$11 - 2 = \square$

## 2. Nối phép tính với các kết quả thích hợp:





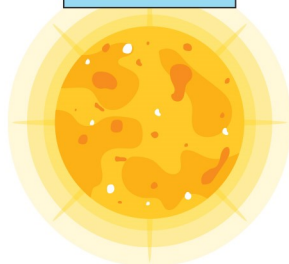
$8 + 5$

$13 - 5$

$6 + 6$

$12 - 3$

$7 + 7$



## BÀI 14: Luyện tập về cộng trừ (có nhớ) trong phạm vi 20

3. Điền dấu +, - thích hợp vào ô trống:

$11 \square 3 = 8$

$7 \square 5 = 12$

$15 \square 7 = 8$

$8 \square 4 = 12$

$9 \square 9 = 18$

$13 \square 3 = 10$

$11 \square 8 = 3$

$12 \square 6 = 6$

$8 \square 8 = 16$

$6 \square 9 = 15$

$19 \square 9 = 10$

$6 \square 7 = 13$

4. Hà có 12 quyển truyện, Hà cho Huệ mượn 5 quyển truyện  
Hỏi Hà còn lại bao nhiêu quyển truyện?

Phép tính:  $\square \bigcirc \square \bigcirc \square$

Trả lời: Hà còn lại ..... quyển truyện.

# BÀI 14: Luyện tập về cộng trừ (có nhớ) trong phạm vi 20

## 1. Tính nhẩm:

$8 + 5 = 13$

$7 + 4 = 11$

$6 + 7 = 13$

$9 + 2 = 11$

$5 + 8 = 13$

$4 + 7 = 11$

$7 + 6 = 13$

$2 + 9 = 11$

$13 - 8 = 5$

$11 - 7 = 4$

$13 - 6 = 7$

$11 - 9 = 2$

$13 - 5 = 8$

$11 - 4 = 7$

$13 - 7 = 6$

$11 - 2 = 9$

## 2. Nối phép tính với các kết quả thích hợp:






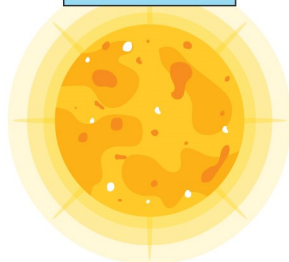
$8 + 5$

$13 - 5$

$6 + 6$

$12 - 3$

$7 + 7$



## BÀI 14: Luyện tập về cộng trừ (có nhớ) trong phạm vi 20

3. Điền dấu +, - thích hợp vào ô trống:

$11 \square - 3 = 8$

$7 \square + 5 = 12$

$15 \square - 7 = 8$

$8 \square + 4 = 12$

$9 \square + 9 = 18$

$13 \square - 3 = 10$

$11 \square - 8 = 3$

$12 \square - 6 = 6$

$8 \square + 8 = 16$

$6 \square + 9 = 15$

$19 \square - 9 = 10$

$6 \square + 7 = 13$

4. Hà có 12 quyển truyện, Hà cho Huệ mượn 5 quyển truyện  
Hỏi Hà còn lại bao nhiêu quyển truyện?

Phép tính:  $12 \square - 5 \square = 8 \square$

Trả lời: Hà còn lại 8 quyển truyện.