


BÀI 15: Bài toán liên quan đến phép cộng, phép trừ

1. Viết tiếp vào chỗ chấm để hoàn thành bài giải của bài toán sau:
 Có 7 con vịt dưới ao, có 4 con vịt trên bờ. Hỏi có tất cả bao nhiêu con vịt?




Bài giải

Có tất cả số con vịt là: = (con)

Đáp số: con vịt.

2. Bể cá có 21 con cá. Tâm thả thêm 8 con cá. Hỏi bể cá có tất cả bao nhiêu con cá.



Bài giải

BÀI 15: Bài toán liên quan đến phép cộng, phép trừ

3. Cây táo nhà Dũng có 14 quả, Dũng giúp bố hái xuống 9 quả. Hỏi cây táo đó còn lại mấy quả táo?



Bài giải


4. Chị Hiền trồng được 35 cây hoa. Chị đã mang đi bán 20 cây. Hỏi chị Hiền còn lại bao nhiêu cây hoa?



Bài giải

BÀI 15: Bài toán liên quan đến phép cộng, phép trừ

1. Viết tiếp vào chỗ chấm để hoàn thành bài giải của bài toán sau:
 Có 7 con vịt dưới ao, có 4 con vịt trên bờ. Hỏi có tất cả bao nhiêu con vịt?




Bài giải

Có tất cả số con vịt là: $7 + 4 = 11$ (con)

Đáp số: 11 con vịt.

2. Bể cá có 21 con cá. Tâm thả thêm 8 con cá. Hỏi bể cá có tất cả bao nhiêu con cá.



Bài giải

Có tất cả số con cá là: $21 + 8 = 29$ (con)

Đáp số: 29 con cá.

BÀI 15: Bài toán liên quan đến phép cộng, phép trừ

3. Cây táo nhà Dũng có 14 quả, Dũng giúp bố hái xuống 9 quả. Hỏi cây táo đó còn lại mấy quả táo?



Bài giải

Có tất cả số quả táo là: $14 - 9 = 5$ (quả)

Đáp số: 5 quả táo.

4. Chị Hiền trồng được 35 cây hoa. Chị đã mang đi bán 20 cây. Hỏi chị Hiền còn lại bao nhiêu cây hoa?



Bài giải

Có tất cả số cây hoa là: $35 - 20 = 15$ (cây)

Đáp số: 15 cây hoa.