


BÀI 2:

Ước lượng theo nhóm 1 chục

Khoanh vào chữ đặt trước câu trả lời đúng:


1. Ước lượng theo nhóm 1 chục. Có khoảng mấy chục quả táo?

- A. 1 chục
- B. 2 chục
- C. 4 chục
- D. 6 chục




2. Ước lượng theo nhóm 1 chục. Trong bể có khoảng mấy chục con cá?

- A. 2 chục
- B. 3 chục



3. Ước lượng theo nhóm 1 chục. Trong bể có khoảng mấy chục con cá?


- A. 3 chục
- B. 5 chục



BÀI 2:

Ước lượng theo nhóm 1 chục

4. Ước lượng theo nhóm 1 chục rồi đếm để kiểm tra kết quả ước lượng:




Ước lượng: Có khoảng quả cam

Đếm: Có quả cam



Ước lượng: Có khoảng cái bát

Đếm: Có cái bát



Ước lượng: Có khoảng ngôi sao

Đếm: Có ngôi sao


BÀI 2:

Ước lượng theo nhóm 1 chục

Khoanh vào chữ đặt trước câu trả lời đúng:


1. Ước lượng theo nhóm 1 chục. Có khoảng mấy chục quả táo?

- A. 1 chục
- B. 2 chục
- C. 4 chục
- D. 6 chục




2. Ước lượng theo nhóm 1 chục. Trong bể có khoảng mấy chục con cá?

- A. 2 chục
- B. 3 chục



3. Ước lượng theo nhóm 1 chục. Trong bể có khoảng mấy chục con cá?


- A. 3 chục
- B. 5 chục



BÀI 2:

Ước lượng theo nhóm 1 chục

4. Ước lượng theo nhóm 1 chục rồi đếm để kiểm tra kết quả ước lượng:




Ước lượng: Có khoảng **3 chục** quả cam

Đếm: Có **28** quả cam



Ước lượng: Có khoảng **3 chục** cái bát

Đếm: Có **33** cái bát



Ước lượng: Có khoảng **20** ngôi sao

Đếm: Có **24** ngôi sao