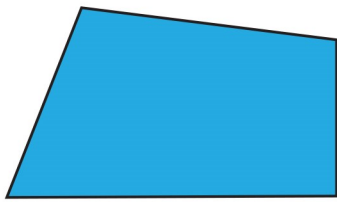

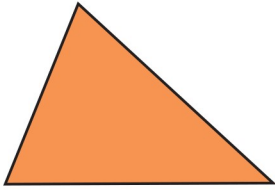



BÀI 27: Hình tứ giác

1. Đánh dấu ✓ vào ô trống đặt cạnh hình tứ giác trong mỗi hình sau:

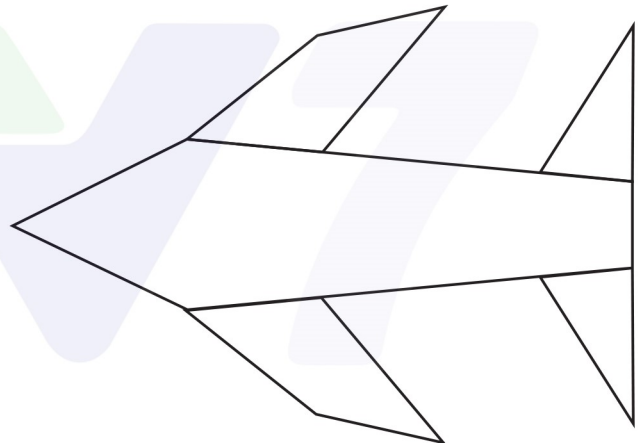
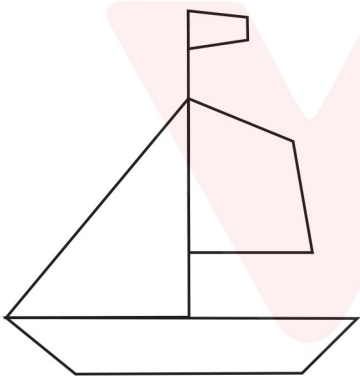




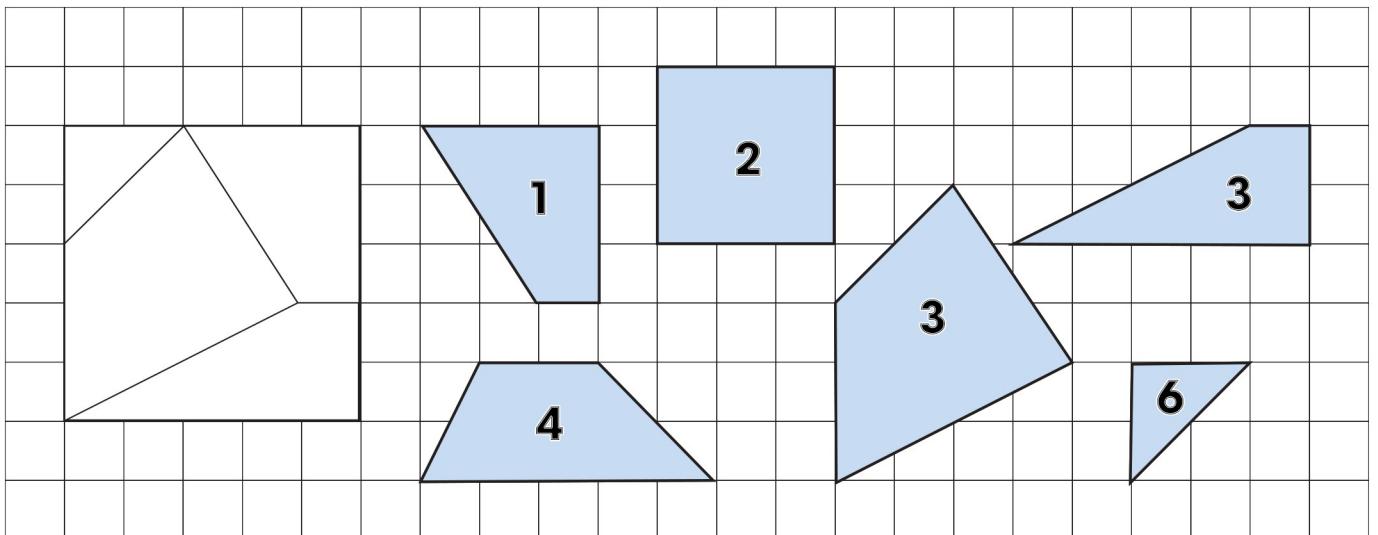




2. Tô màu vào những hình tứ giác em nhìn thấy trong mỗi hình sau:


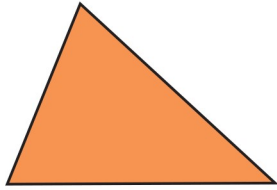

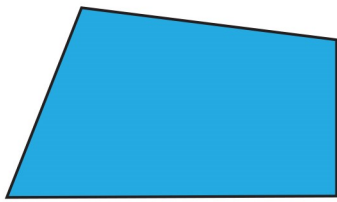


3. Hình vuông sau được ghép từ các mảnh bìa nào? Hãy nối các mảnh bìa đó vào vị trí thích hợp trên hình vuông

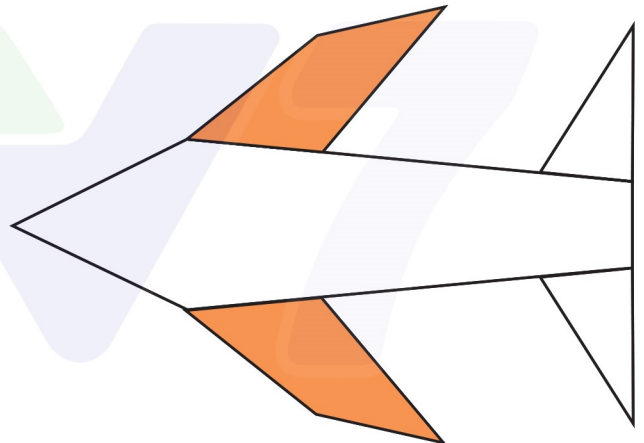
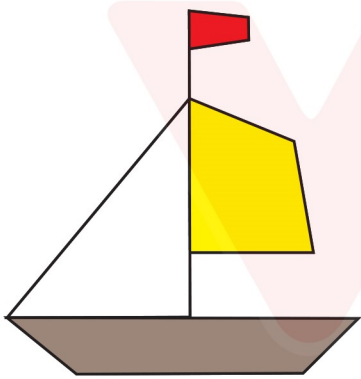


BÀI 27: Hình tứ giác

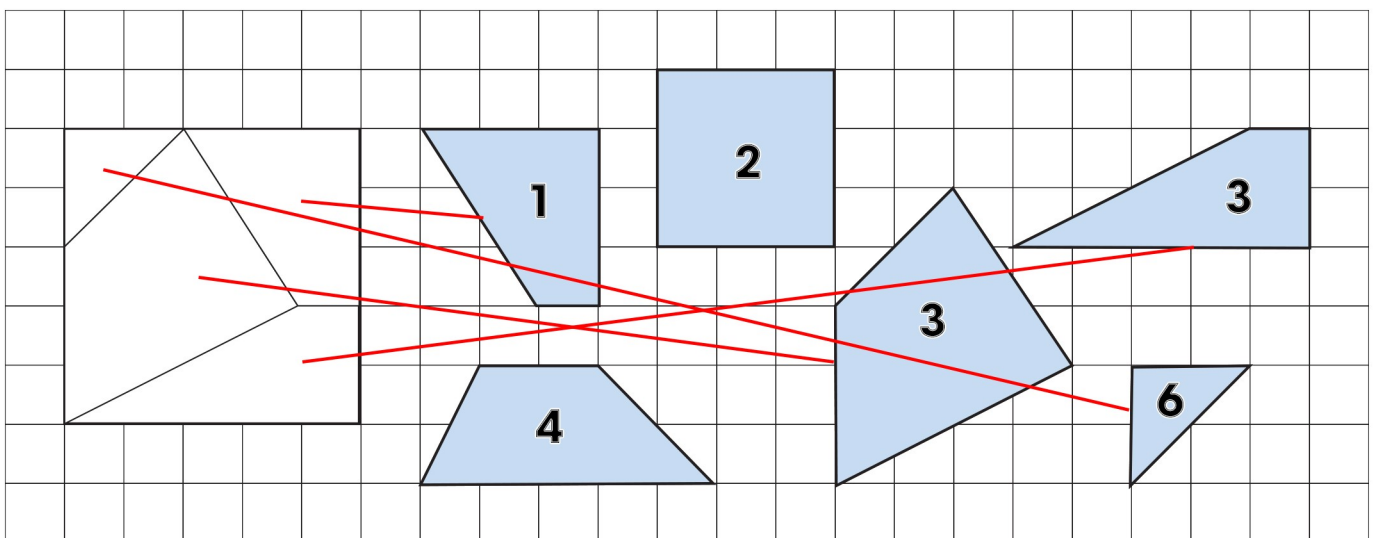
1. Đánh dấu vào ô trống đặt cạnh hình tứ giác trong mỗi hình sau:



2. Tô màu vào những hình tứ giác em nhìn thấy trong mỗi hình sau:





3. Hình vuông sau được ghép từ các mảnh bìa nào? Hãy nối các mảnh bìa đó vào vị trí thích hợp trên hình vuông



BÀI 27: Hình tứ giác

4. Em hãy giúp bạn Voi tô màu xanh vào những mảnh ghép hình tứ giác trong hình dưới đây:



5. Chiếc bình đang đựng 5 l nước. Hỏi phải đổ thêm bao nhiêu lít nước nữa thì đầy bình?



Trả lời: Phải đổ thêm 5 l nước nữa thì đầy bình

6. Bình sữa to có 20 l sữa, bình sữa nhỏ có ít hơn bình sữa to 5 l sữa. Hỏi bình sữa nhỏ có bao nhiêu lít sữa?

Bài giải

Bình sữa nhỏ có số lít sữa là:									
$20 - 5 = 15$ (lít)									
Đáp số: 15 (lít)									