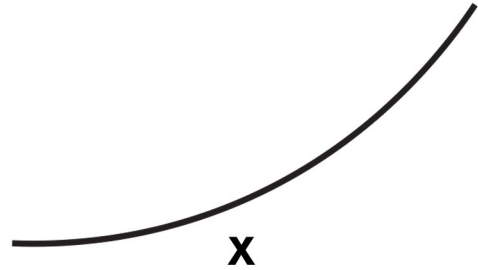
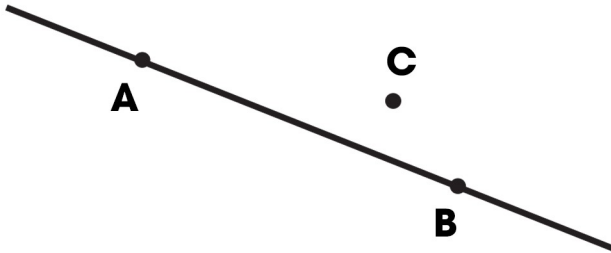


# BÀI 33: Luyện tập chung


## 1. Đúng ghi Đ, sai ghi S



Trong hình vẽ trên có:

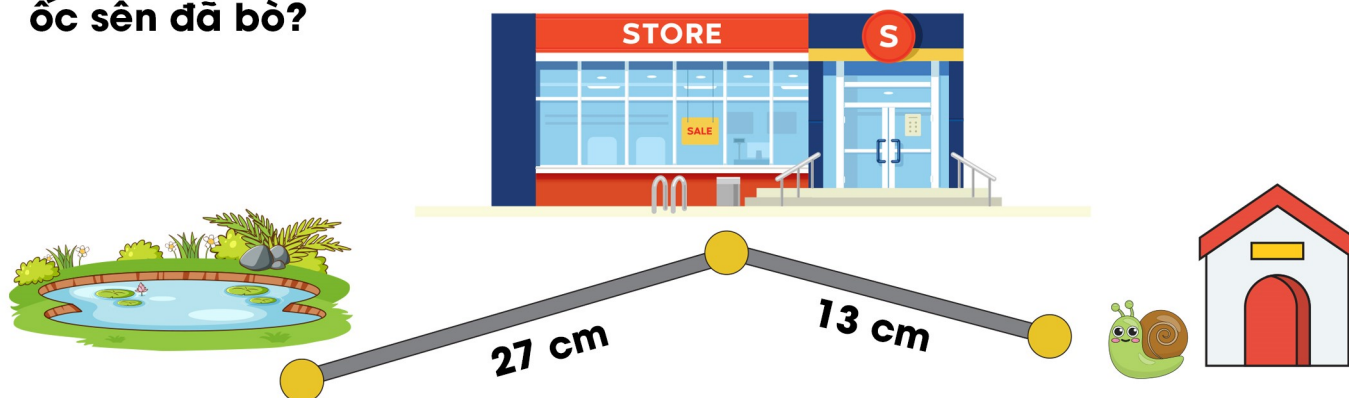
- a) Đoạn thẳng HK.
- b) Đoạn thẳng AB.
- c) Đường cong X.
- d) Ba điểm H, Q, K thẳng hàng.
- e) Ba điểm A, B, C thẳng hàng.

## 2. Tô màu các hình tứ giác.



## BÀI 33: Luyện tập chung

3. Hôm qua, chú ốc sên bò 13 cm từ nhà đến siêu thị mua đồ, rồi bò thêm 27 cm từ siêu thị đến bờ ao. Tính độ dài quãng đường mà ốc sên đã bò?



Bài giải



4. Quan sát tranh



Viết số thích hợp vào chỗ chấm.

Túi gạo cân nặng ..... kg

Con thỏ cân nặng ..... kg

## BÀI 33: Luyện tập chung

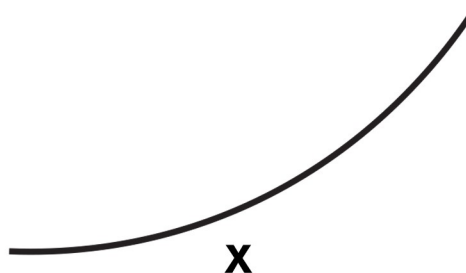
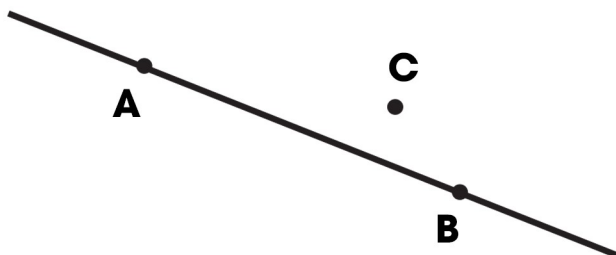
5. Trong thùng có 20 l nước. Múc hết nước từ thùng rót vào đầy các can. Có thể rót vào đầy tất cả các can trong phương án nào sau đây?

Khoanh vào chữ đặt trước câu trả lời đúng.



# BÀI 33: Luyện tập chung


## 1. Đúng ghi Đ, sai ghi S



Trong hình vẽ trên có:

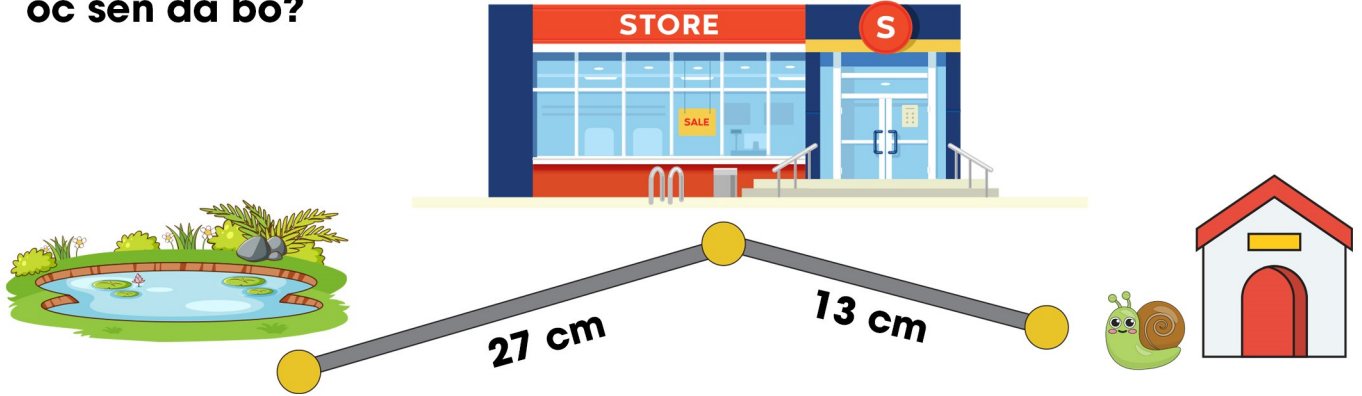
- a) Đoạn thẳng HK.  Đ
- b) Đoạn thẳng AB.  Đ
- c) Đường cong X.  Đ
- d) Ba điểm H, Q, K thẳng hàng.  Đ
- e) Ba điểm A, B, C thẳng hàng.  S

## 2. Tô màu các hình tứ giác.



# BÀI 33: Luyện tập chung

3. Hôm qua, chú ốc sên bò 13 cm từ nhà đến siêu thị mua đồ, rồi bò thêm 27 cm từ siêu thị đến bờ ao. Tính độ dài quãng đường mà ốc sên đã bò?



Bài giải

<b>Độ dài quãng đường ốc sên đã bò là:</b>									
<b><math>27 + 13 = 40</math> (cm)</b>									
<b>Đáp số: 40 cm</b>									

4. Quan sát tranh



Viết số thích hợp vào chỗ chấm.

Túi gạo cân nặng ...**7**... kg

Con thỏ cân nặng ...**4**.. kg

## BÀI 33: Luyện tập chung

5. Trong thùng có 20 l nước. Mức hết nước từ thùng rót vào đầy các can. Có thể rót vào đầy tất cả các can trong phương án nào sau đây?

Khoanh vào chữ đặt trước câu trả lời đúng.

