

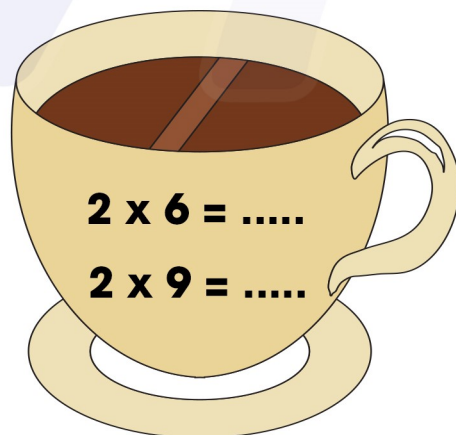



## BÀI 38: Bảng nhân 2

1. Tô màu vào các chấm tròn rồi viết phép nhân thích hợp:

$2 \times 1 = 2$			
$2 \times 2 = \dots$			
$2 \times 3 = \dots$			

2. Tính nhẩm

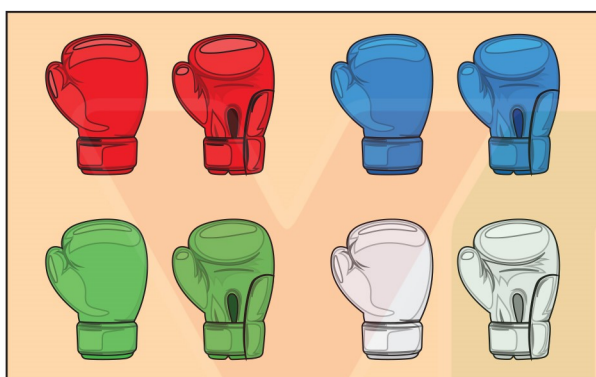


## BÀI 38: Bảng nhân 2

3. Tính:

$2 \text{ kg} \times 4 = \dots\dots$  $2 \text{ l} \times 2 = \dots\dots$	$2 \text{ cm} \times 5 = \dots\dots$  $2 \text{ dm} \times 6 = \dots\dots$	$2 \text{ kg} \times 8 = \dots\dots$  $2 \text{ l} \times 7 = \dots\dots$	$2 \text{ cm} \times 10 = \dots\dots$  $2 \text{ dm} \times 1 = \dots\dots$
---	--	---	---

4. Quan sát tranh, viết phép nhân thích hợp:



$$\square \times \square = \square$$



$$\square \times \square = \square$$

5. Viết phép tính thích hợp:

Mỗi xe đạp có hai bánh xe. Hỏi 6 xe đạp như thế có tất cả bao nhiêu bánh xe?



$$\square \times \square = \square$$

## BÀI 38: Bảng nhân 2

1. Tô màu vào các chấm tròn rồi viết phép nhân thích hợp:

$2 \times 1 = 2$



$2 \times 6 = 12$



$2 \times 2 = 4$



$2 \times 7 = 14$



$2 \times 3 = 6$



$2 \times 8 = 16$



$2 \times 4 = 8$



$2 \times 9 = 18$



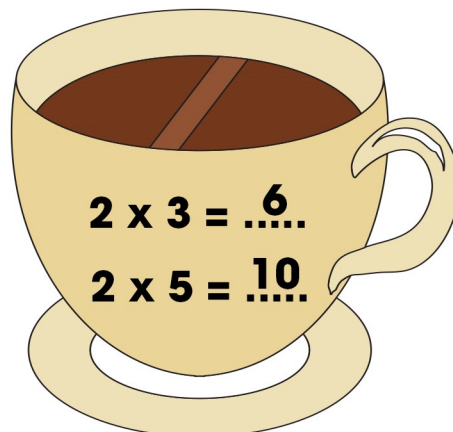
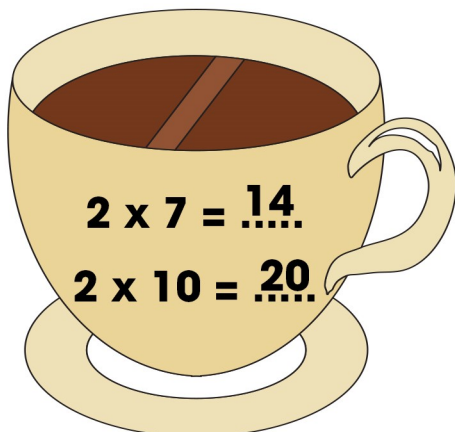
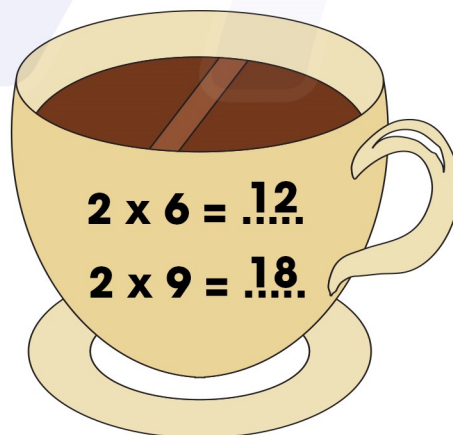
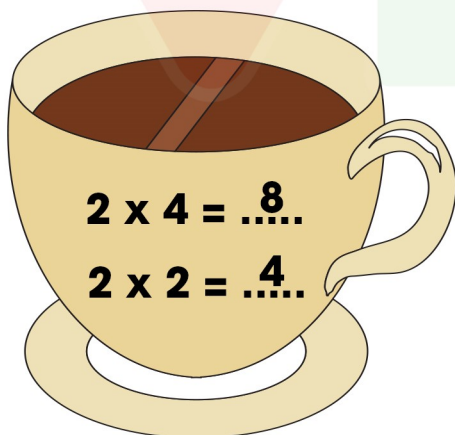
$2 \times 5 = 10$



$2 \times 10 = 20$



2. Tính nhẩm

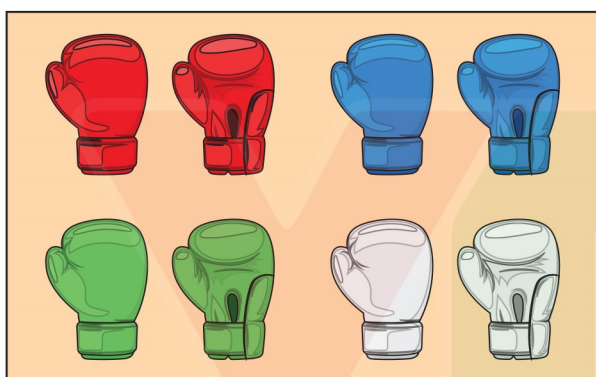


## BÀI 38: Bảng nhân 2

3. Tính:

$2 \text{ kg} \times 4 = 8 \text{ kg}$ $2 \text{ l} \times 2 = 4 \text{ l}$	$2 \text{ cm} \times 5 = 10 \text{ cm}$ $2 \text{ dm} \times 6 = 12 \text{ dm}$	$2 \text{ kg} \times 8 = 16 \text{ kg}$ $2 \text{ l} \times 7 = 14 \text{ l}$	$2 \text{ cm} \times 10 = 20 \text{ cm}$ $2 \text{ dm} \times 1 = 2 \text{ dm}$
--	--	--	--

4. Quan sát tranh, viết phép nhân thích hợp:



$$2 \times 4 = 8$$



$$2 \times 5 = 10$$

5. Viết phép tính thích hợp:

Mỗi xe đạp có hai bánh xe. Hỏi 6 xe đạp như thế có tất cả bao nhiêu bánh xe?



$$2 \times 6 = 12$$