

BÀI 39: Bảng nhân 5

1. Tính:

$5 \times 3 = \dots$
 $5 \times 7 = \dots$
 $5 \times 4 = \dots$

$5 \times 6 = \dots$
 $5 \times 10 = \dots$
 $5 \times 8 = \dots$
 $5 \times 2 = \dots$

$5 \times 1 = \dots$
 $5 \times 5 = \dots$
 $5 \times 9 = \dots$

2. Quan sát tranh, viết phép nhân thích hợp:

$5 \text{ kg} \times 4 = \dots$ $5 \text{ l} \times 2 = \dots$	$5 \text{ cm} \times 5 = \dots$ $5 \text{ dm} \times 6 = \dots$	$5 \text{ kg} \times 8 = \dots$ $5 \text{ l} \times 7 = \dots$	$5 \text{ cm} \times 10 = \dots$ $5 \text{ dm} \times 1 = \dots$
---	--	---	---

3. Viết phép nhân thích hợp với mỗi tranh vẽ:

a) Có tất cả bao nhiêu quả dâu tây?



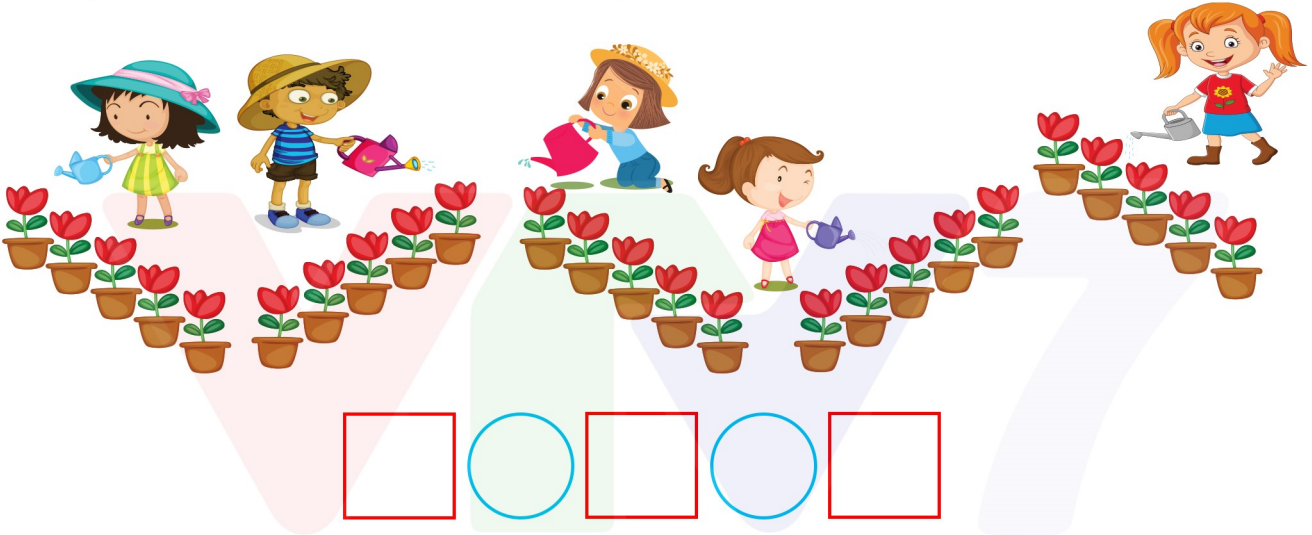
BÀI 39: Bảng nhân 5

b) Có tất cả bao nhiêu quả cà chua?



○ ○

4. a) Viết phép nhân thích hợp với tranh vẽ:



○ ○


b) Kể một tình huống sử dụng phép nhân 5×4 trong thực tế.

.....

.....

.....

5. SỐ?



BÀI 39: Bảng nhân 5

1. Tính:

$5 \times 3 = 15$
 $5 \times 7 = 35$
 $5 \times 4 = 20$

$5 \times 6 = 30$
 $5 \times 10 = 50$
 $5 \times 8 = 40$
 $5 \times 2 = 10$

$5 \times 1 = 5$
 $5 \times 5 = 25$
 $5 \times 9 = 45$

2. Quan sát tranh, viết phép nhân thích hợp:

$5 \text{ kg} \times 4 = 20 \text{ kg}$ $5 \text{ l} \times 2 = 10 \text{ l}$	$5 \text{ cm} \times 5 = 25 \text{ cm}$ $5 \text{ dm} \times 6 = 30 \text{ dm}$	$5 \text{ kg} \times 8 = 40 \text{ kg}$ $5 \text{ l} \times 7 = 35 \text{ l}$	$5 \text{ cm} \times 10 = 50 \text{ cm}$ $5 \text{ dm} \times 1 = 5 \text{ dm}$
--	--	--	--

3. Viết phép nhân thích hợp với mỗi tranh vẽ:

a) Có tất cả bao nhiêu quả dâu tây?



$$5 \times 4 = 20$$

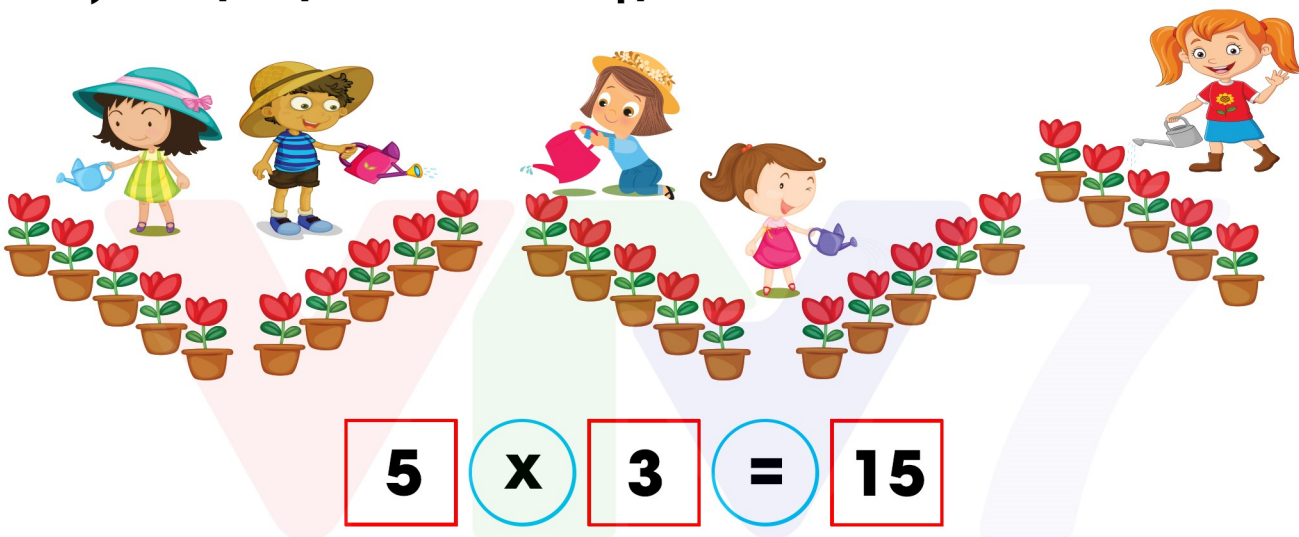
BÀI 39: Bảng nhân 5

b) Có tất cả bao nhiêu quả cà chua?



$$5 \times 3 = 15$$

4. a) Viết phép nhân thích hợp với tranh vẽ:



b) Kể một tình huống sử dụng phép nhân 5×4 trong thực tế.

Bạn An có 5 hộp bánh, mỗi hộp có 4 cái.

Vậy là An có $5 \times 4 = 20$ cái

5. Số?

