

BÀI 41: Luyện tập

1. Cho phép nhân, viết hai phép chia thích hợp:

a)

$$2 \times 3 = 6$$

$$6 : 2 = \square$$

$$6 : 3 = \square$$

b)

$$4 \times 3 = 12$$

$$\square : \square = \square$$

$$\square : \square = \square$$

c)

$$2 \times 9 = 18$$

$$\square : \square = \square$$

$$\square : \square = \square$$

d)

$$5 \times 8 = 40$$

$$\square : \square = \square$$

$$\square : \square = \square$$

2. Tìm kết quả phép nhân rồi từ phép nhân viết hai phép chia tương ứng:



A

$$5 \times 2 = \square$$

$$10 : 5 = \square$$

$$10 : 2 = \square$$



B

$$2 \times 8 = \square$$

$$16 : 2 = \square$$

$$16 : 8 = \square$$

C

$$5 \times 7 = \square$$

$$35 : 5 = \square$$

$$35 : 7 = \square$$

BÀI 41: Luyện tập

3. Quan sát tranh, viết phép tính tương ứng

a)




$4 \times 3 = 12$

$12 : 4 = \square$

$12 : 3 = \square$

b)




$3 \times 4 = 12$

$12 : 4 = \square$

$12 : 3 = \square$


4. Quan sát tranh, viết phép nhân thích hợp và hai phép chia tương ứng:



$\square \times \square = \square$

$\square : \square = \square$

$\square : \square = \square$



$\square \times \square = \square$

$\square : \square = \square$

$\square : \square = \square$

BÀI 41: Luyện tập

1. Cho phép nhân, viết hai phép chia thích hợp:

a)

$2 \times 3 = 6$	$6 : 2 = 3$
	$6 : 3 = 2$

b)

$4 \times 3 = 12$	$12 : 3 = 4$
	$12 : 4 = 3$

c)

$2 \times 9 = 18$	$18 : 9 = 2$
	$18 : 2 = 9$

d)

$5 \times 8 = 40$	$40 : 5 = 8$
	$40 : 8 = 5$

2. Tìm kết quả phép nhân rồi từ phép nhân viết hai phép chia tương ứng:

A

$5 \times 2 = 10$

$10 : 5 = 2$

$10 : 2 = 5$

B

$2 \times 8 = 16$

$16 : 2 = 8$

$16 : 8 = 2$

C

$5 \times 7 = 35$

$35 : 5 = 7$

$35 : 7 = 5$

BÀI 41: Luyện tập


3. Quan sát tranh, viết phép tính tương ứng

a)




$4 \times 3 = 12$
 $12 : 4 = 3$
 $12 : 3 = 4$

b)




$3 \times 4 = 12$
 $12 : 4 = 3$
 $12 : 3 = 4$

4. Quan sát tranh, viết phép nhân thích hợp và hai phép chia tương ứng:



$5 \times 2 = 10$
 $10 : 2 = 5$
 $10 : 5 = 2$



$3 \times 2 = 6$
 $6 : 2 = 3$
 $6 : 3 = 2$