

BÀI 53: Các số trong phạm vi 1000

1. Đếm rồi điền vào chỗ trống (theo mẫu):

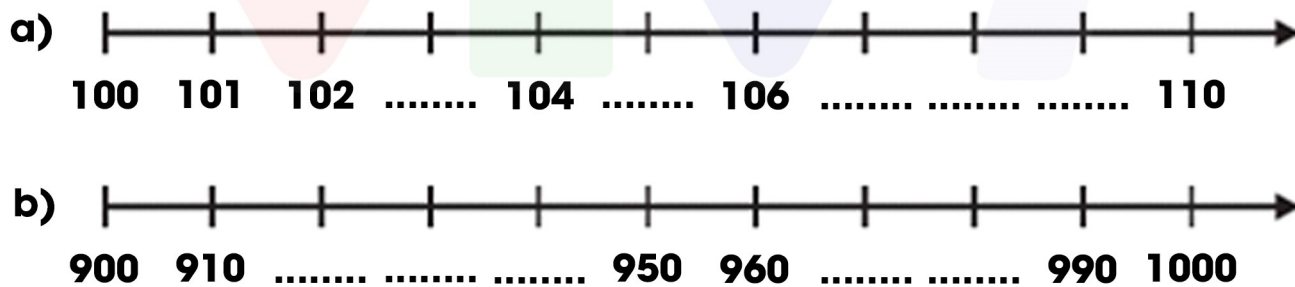
	Viết số	Đọc số
	110	Một trăm mười
	103	Hai trăm linh ba

BÀI 53: Các số trong phạm vi 1000

2. Nối số với cách đọc tương ứng:

Bảy trăm linh sáu	520
Hai trăm linh năm	450
Chín trăm ba mươi	308
Năm trăm hai mươi	930
Ba trăm linh tám	706
Bốn trăm năm mươi	205

3. Số?



4. Quan sát tranh, viết số nhà thích hợp vào các ngôi nhà bị mất số:



BÀI 53: Các số trong phạm vi 1000

1. Đếm rồi điền vào chỗ trống (theo mẫu):

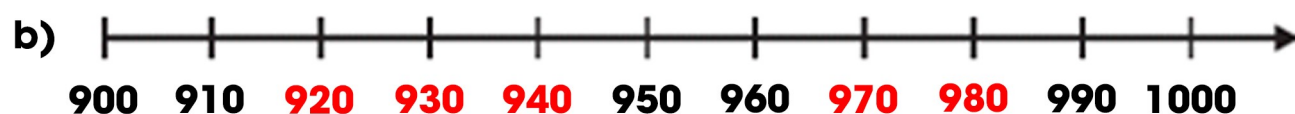
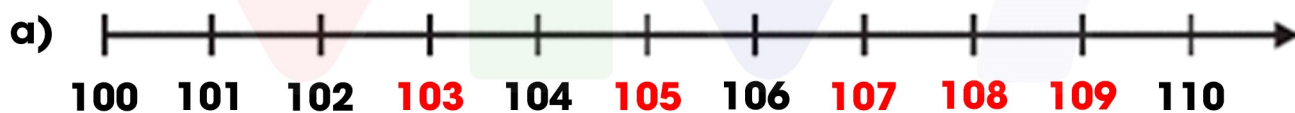
	Viết số	Đọc số
	110	Một trăm mười
	103	Hai trăm linh ba
	140	Một trăm bốn mươi
	130	Một trăm ba mươi
	250	Hai trăm năm mươi
	105	Một trăm linh năm
	202	Hai trăm linh hai
	204	Hai trăm linh tư
	301	Ba trăm linh một

BÀI 53: Các số trong phạm vi 1000

2. Nối số với cách đọc tương ứng:

Bảy trăm linh sáu	520
Hai trăm linh năm	450
Chín trăm ba mươi	308
Năm trăm hai mươi	930
Ba trăm linh tám	706
Bốn trăm năm mươi	205

3. Số?



4. Quan sát tranh, viết số nhà thích hợp vào các ngôi nhà bị mất số:

