

BÀI 56: So sánh các số có ba chữ số



1. Viết số và dấu (>, <, =) thích hợp:

a) 567 và 623

567	➔
623	➔

Trăm	Chục	Đơn vị
5	6	7
.....

567 623

b) 748 và 784

748	➔
784	➔

Trăm	Chục	Đơn vị
.....
.....

748 784

c) 345 và 349

345	➔
349	➔

Trăm	Chục	Đơn vị
.....
.....

345 349

d) 492 và 429

492	➔
429	➔

Trăm	Chục	Đơn vị
.....
.....

492 429

e) 703 và 703

703	➔
703	➔

Trăm	Chục	Đơn vị
.....
.....

703 703

2. Điền dấu $>$, $<$, $=$ thích hợp vào chỗ chấm:

a)

$367 \dots\dots 278$ $468 \dots\dots 482$ $674 \dots\dots 674$	$986 \dots\dots 896$ $630 \dots\dots 660$ $404 \dots\dots 409$

b)

$674 \dots\dots 764$ $512 \dots\dots 370$ $277 \dots\dots 772$	$104 \dots\dots 109$ $811 \dots\dots 811$ $310 \dots\dots 301$

3. a) Viết các số 326 ; 709 ; 697 ; 711 theo thứ tự từ bé đến lớn:

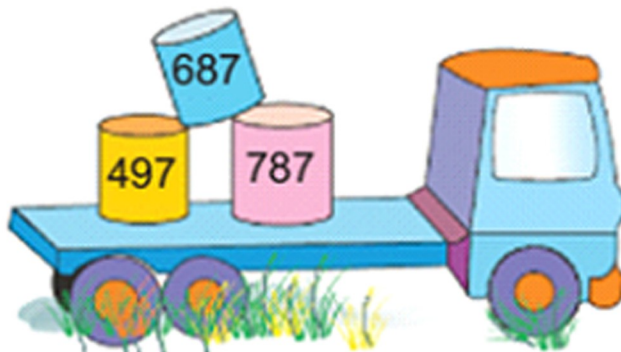
..... ; ; ;

b) Viết các số 326 ; 709 ; 697 ; 711 theo thứ tự từ lớn đến bé:


..... ; ; ;

BÀI 56: So sánh các số có ba chữ số

4. a) Khoanh vào số lớn nhất:



b) Khoanh vào số bé nhất:



5. Quyển sách khoa học có 175 trang, quyển sách toán có 204 trang, quyển sách tiếng Việt có 232 trang. Hỏi quyển sách nào có nhiều trang nhất, quyển sách nào có ít trang nhất?

Trả lời:

.....

.....

.....

.....

BÀI 56: So sánh các số có ba chữ số



1. Viết số và dấu (>, <, =) thích hợp:

a) 567 và 623

	Trăm	Chục	Đơn vị	
567	5	6	7	567 < 623
623	6	2	3	

b) 748 và 784

	Trăm	Chục	Đơn vị	
748	7	4	8	748 < 784
784	7	8	4	

c) 345 và 349

	Trăm	Chục	Đơn vị	
345	3	4	5	345 < 349
349	3	4	9	

d) 492 và 429

	Trăm	Chục	Đơn vị	
492	4	9	2	492 > 429
429	4	2	9	

e) 703 và 703

	Trăm	Chục	Đơn vị	
703	7	0	3	703 = 703
703	7	0	3	

2. Điền dấu $>$, $<$, $=$ thích hợp vào chỗ chấm:

a)

	$367 > 278$		$986 > 896$
	$468 < 482$		$630 < 660$
	$674 = 674$		$404 < 409$

b)

	$674 < 764$		$104 < 109$
	$512 > 370$		$811 = 811$
	$277 < 772$		$310 > 301$

3. a) Viết các số 326 ; 709 ; 697 ; 711 theo thứ tự từ bé đến lớn:


326 ; 697 ; 709 ; 711
..... ; ; ;

b) Viết các số 326 ; 709 ; 697 ; 711 theo thứ tự từ lớn đến bé:


711 ; 709 ; 697 ; 326
..... ; ; ;

BÀI 56: So sánh các số có ba chữ số

4. a) Khoanh vào số lớn nhất:



b) Khoanh vào số bé nhất:



5. Quyển sách khoa học có 175 trang, quyển sách toán có 204 trang, quyển sách tiếng Việt có 232 trang. Hỏi quyển sách nào có nhiều trang nhất, quyển sách nào có ít trang nhất?

Trả lời: **Quyển sách tiếng Việt có nhiều trang nhất.**

Quyển sách khoa học có ít trang nhất.