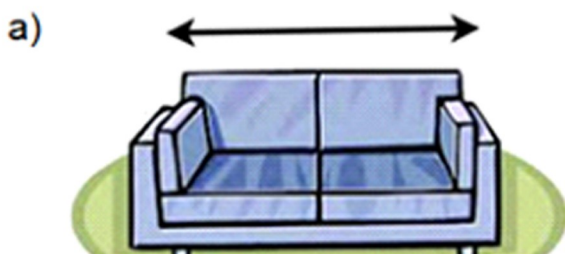


# BÀI 61: Mét

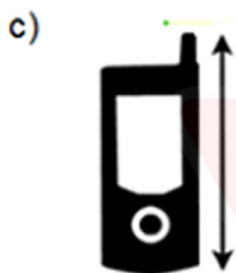
1. Viết đơn vị đo độ dài m, cm thích hợp vào chỗ chấm:



1 .....



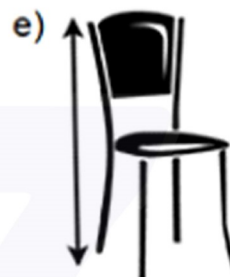
120 .....



10 .....



20 .....



1 .....

2. Tính:

$$7\text{ m} + 2\text{ m} = \dots\dots\dots$$

$$15\text{ m} - 6\text{ m} = \dots\dots\dots$$

$$10\text{ m} + 20\text{ m} = \dots\dots\dots$$

$$72\text{ m} - 30\text{ m} = \dots\dots\dots$$

$$30\text{ m} + 8\text{ m} = \dots\dots\dots$$

$$150\text{ m} - 50\text{ m} = \dots\dots\dots$$

$$2\text{ m} \times 5 = \dots\dots\dots$$

$$10\text{ m} : 2 = \dots\dots\dots$$

3. Số?

$$1\text{ m} = \dots\dots\text{cm}$$

$$4\text{ m} = \dots\dots\text{cm}$$

$$300\text{cm} = \dots\dots\text{m}$$

$$1\text{ m} = \dots\dots\text{dm}$$

$$7\text{ m} = \dots\dots\text{dm}$$

$$60\text{dm} = \dots\dots\text{m}$$

$$3\text{ m} = \dots\dots\text{cm}$$

$$600\text{dm} = \dots\dots\text{m}$$

$$200\text{cm} = \dots\dots\text{m}$$

## BÀI 61: Mét

4. Cuộn dây điện thứ nhất dài 36m, cuộn dây điện thứ hai ngắn hơn cuộn dây thứ nhất 9m. Hỏi cuộn dây điện thứ hai dài bao nhiêu mét ?

Bài giải:

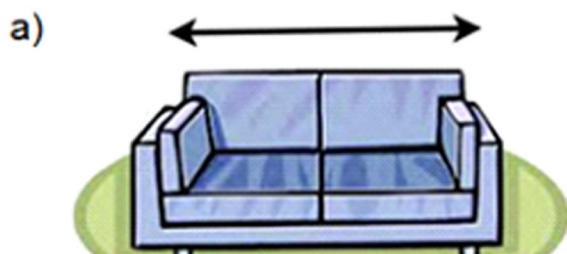
.....  
 (.....)

Đáp số: .....



# BÀI 61: Mét

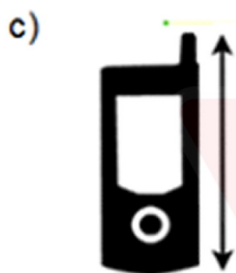
1. Viết đơn vị đo độ dài m, cm thích hợp vào chỗ chấm:



1 ..m..



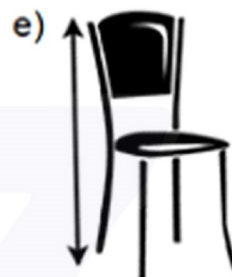
120 .cm.



10 .cm.



20 .cm.



1 ..m..

2. Tính:

$$7\text{ m} + 2\text{ m} = \dots 9\text{ m} \dots$$

$$15\text{ m} - 6\text{ m} = \dots 9\text{ m} \dots$$

$$10\text{ m} + 20\text{ m} = \dots 30\text{ m} \dots$$

$$72\text{ m} - 30\text{ m} = \dots 42\text{ m} \dots$$

$$30\text{ m} + 8\text{ m} = \dots 38\text{ m} \dots$$

$$150\text{ m} - 50\text{ m} = \dots 100\text{ m} \dots$$

$$2\text{ m} \times 5 = \dots 10\text{ m} \dots$$

$$10\text{ m} : 2 = \dots 5\text{ m} \dots$$

3. Số?

$$1\text{ m} = \dots 100 \dots \text{cm}$$

$$4\text{ m} = \dots 400 \dots \text{cm}$$

$$300\text{cm} = \dots 3 \dots \text{m}$$

$$1\text{ m} = \dots 10 \dots \text{dm}$$

$$7\text{ m} = \dots 70 \dots \text{dm}$$

$$60\text{dm} = \dots 6 \dots \text{m}$$

$$3\text{ m} = \dots 300 \dots \text{cm}$$

$$600\text{dm} = \dots 60 \dots \text{m}$$

$$200\text{cm} = \dots 2 \dots \text{m}$$

## BÀI 61: Mét

4. Cuộn dây điện thứ nhất dài 36m, cuộn dây điện thứ hai ngắn hơn cuộn dây thứ nhất 9m. Hỏi cuộn dây điện thứ hai dài bao nhiêu mét ?

Bài giải:

Cuộn dây thứ hai dài:

$$36 - 9 = 27 \text{ (m)}$$

Đáp số: **Cuộn dây thứ hai dài 27m**

