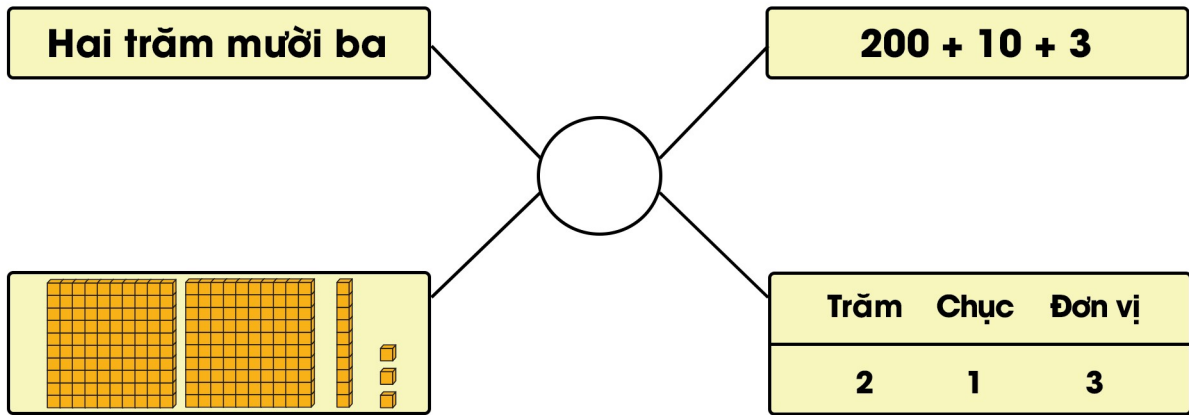


## 1. Số?



2. a) Khoanh tròn vào số lớn nhất trong các số: 879, 978, 789, 979.

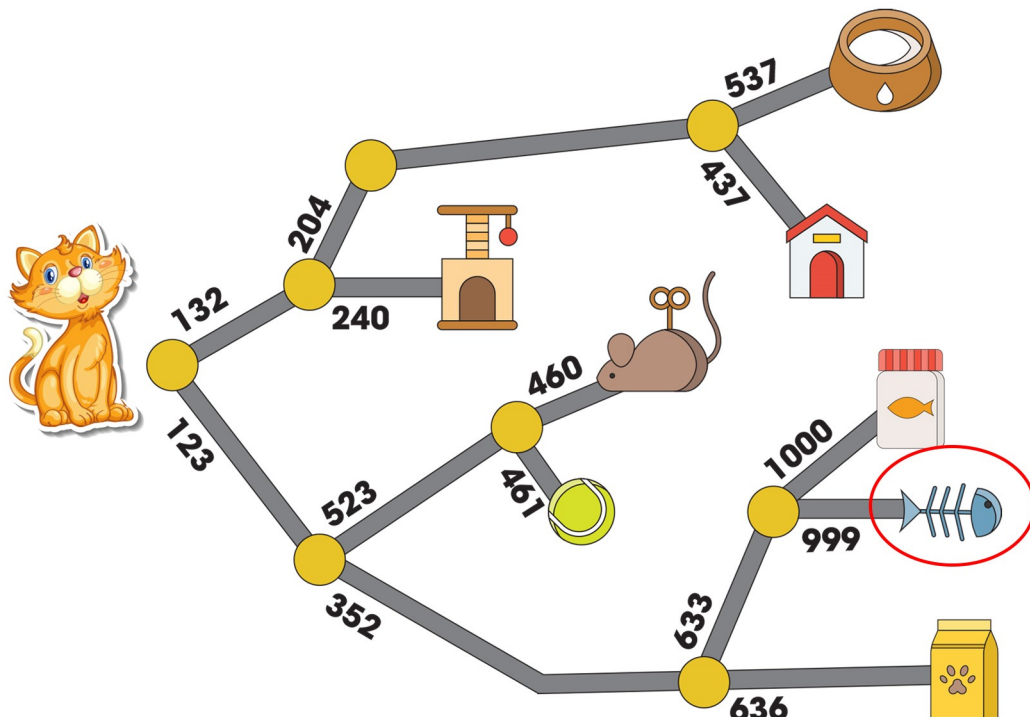
b) Khoanh tròn vào số bé nhất trong các số: 465, 456, 645, 546.

c) Sắp xếp các số 599, 1000, 769, 687 theo thứ tự từ bé đến lớn:

.....; .....; .....; .....

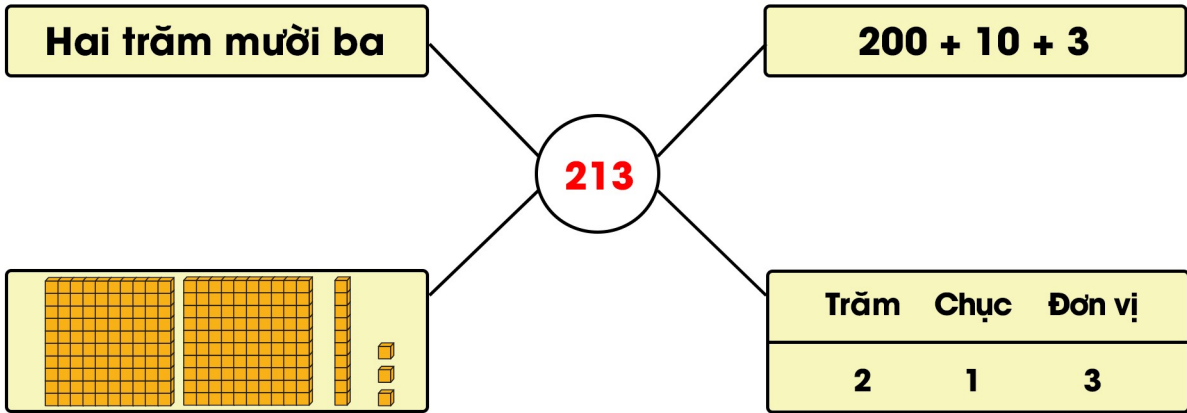
3. Khoanh tròn vào đồ vật thích hợp:

Mèo sẽ lấy được đồ vật nào nếu đi theo số bé hơn tại mỗi ngã rẽ?





## 1. Số?



2. a) Khoanh tròn vào số lớn nhất trong các số: 879, 978, 789, **979**.

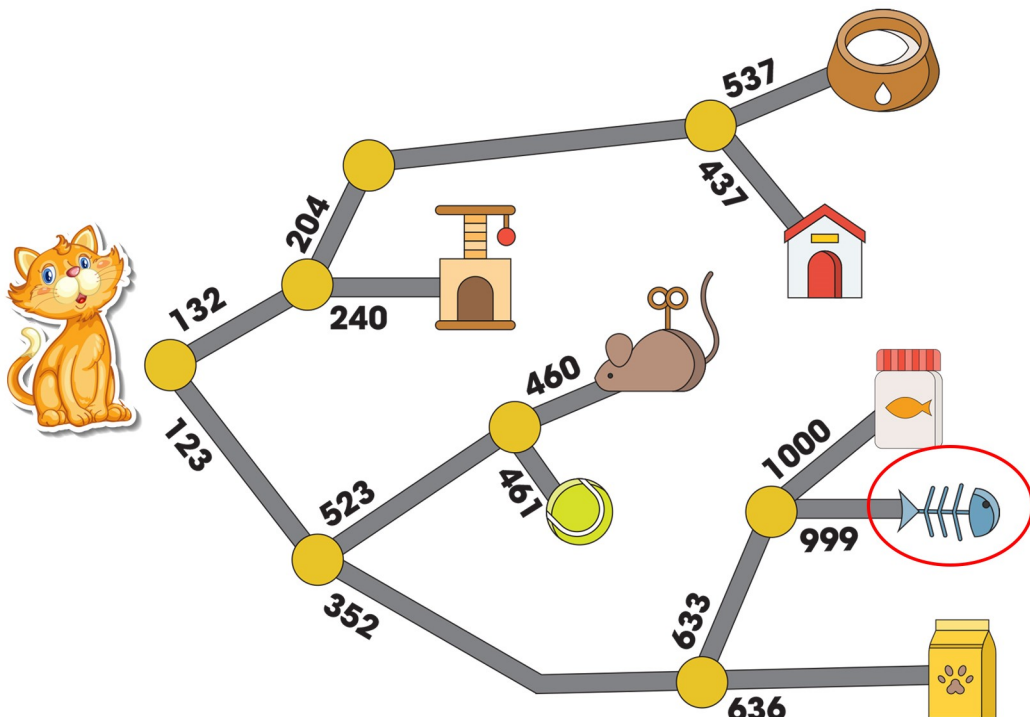
b) Khoanh tròn vào số bé nhất trong các số: 465, **456**, 645, 546.

c) Sắp xếp các số 599, 1000, 769, 687 theo thứ tự từ bé đến lớn:

**599**; **687**; **769**; **1000**

3. Khoanh tròn vào đồ vật thích hợp:

Mèo sẽ lấy được đồ vật nào nếu đi theo số bé hơn tại mỗi ngã rẽ?



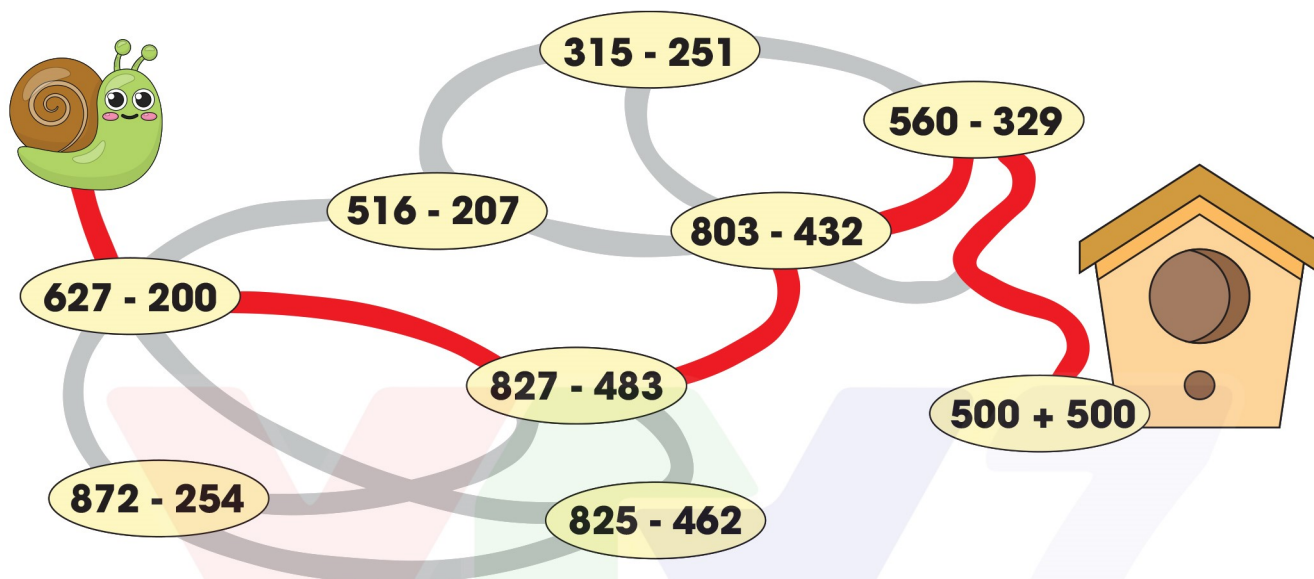


# BÀI 70: Ôn tập về số và phép tính

4. Ốc sên bò qua các phép tính có kết quả theo thứ tự như sau:

$$427 \rightarrow 344 \rightarrow 371 \rightarrow 231 \rightarrow 1000$$

Em hãy tô màu các con đường mà bạn ốc sên đã đi qua để tìm đường về nhà cho bạn ốc sên.



5. Ngày thứ nhất cửa hàng bán được 150 l nước mắm, ngày thứ hai cửa hàng bán được nhiều hơn ngày thứ nhất 75 l nước mắm. Hỏi ngày thứ hai cửa hàng bán được bao nhiêu lít nước mắm?

### Bài giải

Số lít nước mắm ngày thứ hai của hàng bán được là:

$$150 - 75 = 75 \text{ (l nước mắm)}$$

Đáp số: 75 (l nước mắm)